



T.C. Ölçme, Seçme ve Yerleştirme Merkezi

YÜKSEKÖĞRETİM KURUMLARI SINAVI
TEMEL YETERLİLİK TESTİ (TYT)
COĞRAFYA TESTİ
27 HAZİRAN 2020 CUMARTESİ

Bu testlerin her hakkı saklıdır. Hangi amaçla olursa olsun, testlerin tamamının veya bir kısmının Merkezimizin yazılı izni olmadan kopya edilmesi, fotoğrafının çekilmesi, herhangi bir yolla çoğaltılması, yayımlanması ya da kullanılması yasaktır. Bu yasağa uymayanlar gerekli cezai sorumluluğu ve testlerin hazırlanmasındaki mali külfeti peşinen kabullenmiş sayılır.

6. I. Atmosferdeki su buharının tamamına yakını bu katmanda bulunur.
 II. Canlıları Güneş'in zararlı ışınlarından koruyan ozon tabakası bu katmanda yer alır.
 III. Bu katmanda sıcaklıklar genel olarak aşağıdan yukarıya doğru düşer.
 IV. Gazların bir kısmının bu katmanda iyonlara ayrılmasıyla radyo dalgaları yansıtılır.

Yukarıdakilerden hangileri troposferin özellikleri arasında yer alır?

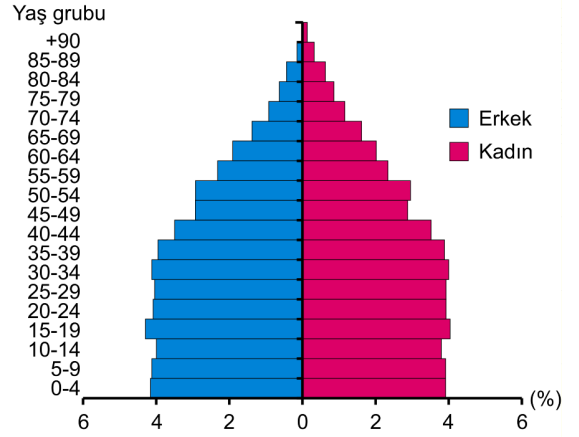
- A) I ve II B) I ve III C) II ve III
 D) II ve IV E) III ve IV

7. Suda kolay çözünen kayaçların bulunduğu yerlerde çözünme sonucunda çeşitli büyüklüklerde çanaklar oluşmaktadır. Obruk, dolin, uvala ve polye bu tür çanakların başlıcalarıdır. Zamanla bu çanakların sularla dolması sonucunda meydana gelen göllere ise karstik göller denilmektedir.

Bu göllerin aşağıdaki kayaç türlerinin hangisinin yaygın olduğu alanlarda daha fazla oluşması beklenir?

- A) Kireç taşı B) Bazalt C) Granit
 D) Şist E) Çakıl taşı

8. Aşağıda, bir ülkenin 2015 yılına ait nüfus piramidi verilmiştir.



Bu piramitteki bilgiler dikkate alındığında aşağıdakilerden hangisine ulaşamaz?

- A) 65 ve üstü yaş grubundaki nüfus oranına
 B) Ülkedeki kadın nüfus oranına
 C) 0-14 yaş grubundaki erkek nüfus oranına
 D) Yıllık nüfus artış hızı ve oranına
 E) 15-19 yaş grubundaki nüfus oranına

9. Bölge sınırları, bölgeyi oluşturma amacı ve ölçütlerine göre değişiklik gösterebilir.

Sınırlardaki bu değişiklik;

- I. karasal iklim bölgesi,
 II. kuru tarım bölgesi,
 III. karstik kayaçlar bölgesi,
 IV. serbest ticaret bölgesi

türlerinin hangilerinde daha kısa sürede gerçekleşebilir?

- A) I ve II B) I ve III C) II ve III
 D) II ve IV E) III ve IV

10. Aşağıdaki haritada bazı alanlar numaralandırılarak gösterilmiştir.



Bu alanların hangisinde sel ve taşkınların görülme sıklığı daha azdır?

- A) I B) II C) III D) IV E) V

2020 TEMEL YETERLİLİK TESTİ (TYT)

YKS 1. OTURUM TEMEL YETERLİLİK TESTİ (TYT)

27-06-2020

COĞRAFYA TESTİ

6. B
7. A
8. D
9. D
10. C

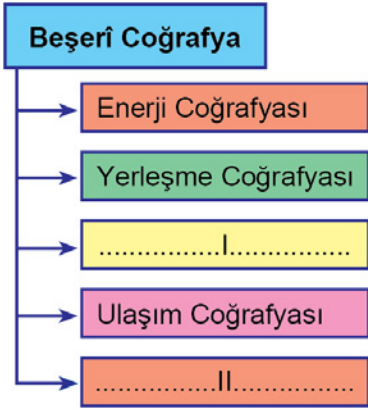


T.C. Ölçme, Seçme ve Yerleştirme Merkezi

YÜKSEKÖĞRETİM KURUMLARI SINAVI
TEMEL YETERLİLİK TESTİ (TYT)
COĞRAFYA TESTİ
15 HAZİRAN 2019 CUMARTESİ

Bu testlerin her hakkı saklıdır. Hangi amaçla olursa olsun, testlerin tamamının veya bir kısmının Merkezimizin yazılı izni olmadan kopya edilmesi, fotoğrafının çekilmesi, herhangi bir yolla çoğaltılması, yayımlanması ya da kullanılması yasaktır. Bu yasağa uymayanlar gerekli cezai sorumluluğu ve testlerin hazırlanmasındaki mali külfeti peşinen kabullenmiş sayılır.

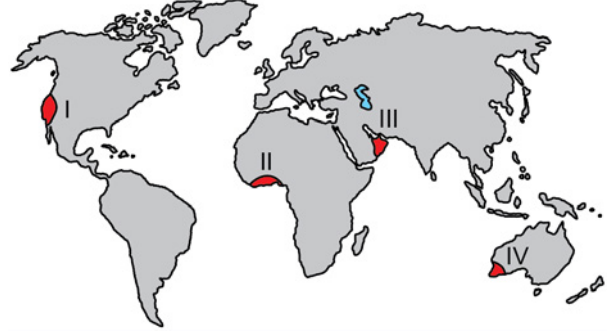
6. Aşağıdaki grafikte Beşerî Coğrafya'nın bazı alt dalları gösterilmiştir.



Bu grafikte numaralandırılarak boş bırakılan yerlere aşağıdakilerden hangisi getirilmelidir?

- | | |
|----------------------|-------------------|
| I | II |
| A) Nüfus Coğrafyası | Siyasi Coğrafya |
| B) Bitki Coğrafyası | Nüfus Coğrafyası |
| C) Turizm Coğrafyası | Bitki Coğrafyası |
| D) Siyasi Coğrafya | Toprak Coğrafyası |
| E) Toprak Coğrafyası | Turizm Coğrafyası |

7. Aşağıdaki haritada bazı alanlar numaralandırılarak gösterilmiştir.



Bu alanların hangilerinde iklime bağlı olarak benzer bitki topluluklarına rastlanır?

- A) I ve II B) I ve IV C) II ve III
D) II ve IV E) III ve IV

8. Bir ülkenin istatistik kurumu tarafından yayımlanan raporunda, ülke nüfusunun ortalama yaşının 17 olduğu belirtilmiştir.

Bu ülkenin nüfusuyla ilgili olarak aşağıdakilerden hangisi söylenebilir?

- A) Doğum oranının yüksek olduğu
B) Yaşlı nüfus oranının yüksek olduğu
C) Ölüm oranının düşük olduğu
D) Gelişmiş bir ülke olduğu
E) Eğitim seviyesinin yüksek olduğu

9. Birleşmiş Milletler tarafından çeşitli nüfus istatistikleri yayımlanmaktadır. Bu istatistiklerden biri de ülkelerin Doğumda Beklenen Yaşam Süreleri ile ilgili olanıdır. Bu süre çeşitli ülkelerdeki bireylerin ortalama yaşam sürelerini gösterir.

Aşağıda bir bölümü gösterilen harita, bazı ülkelerin 2020-2025 dönemi için Erkeklerde Doğumda Beklenen Yaşam Sürelerine göre renklendirilmiştir.



Erkeklerde Doğumda Beklenen Yaşam Süreleri (Yıl)

50 ve 54	70 ve 74
55 ve 59	75 ve 79
60 ve 64	80 ve 84
65 ve 69	

Buna göre aşağıdakilerden hangisi “Erkeklerde Doğumda Beklenen Yaşam Süresi”nin 75-79 yıl olacağı tahmin edilen ülkelerden biridir?

- A) Irak B) Mısır C) Umman
D) Suriye E) Kuveyt

10. Büyük depremlerin her zaman olmasa da başka doğal afetleri tetikleyebildiği bilinmektedir.

Aşağıdaki doğal afetlerden hangisinin oluşumunda depremin böyle bir etkisi bulunmaz?

- A) Heyelan B) Tsunami C) Çığ
D) Erozyon E) Kaya düşmesi

2019 TEMEL YETERLİLİK TESTİ (TYT)

YKS 1. OTURUM TEMEL YETERLİLİK TESTİ (TYT)

15-06-2019

COĞRAFYA TESTİ

6. A
7. B
8. A
9. C
10. D

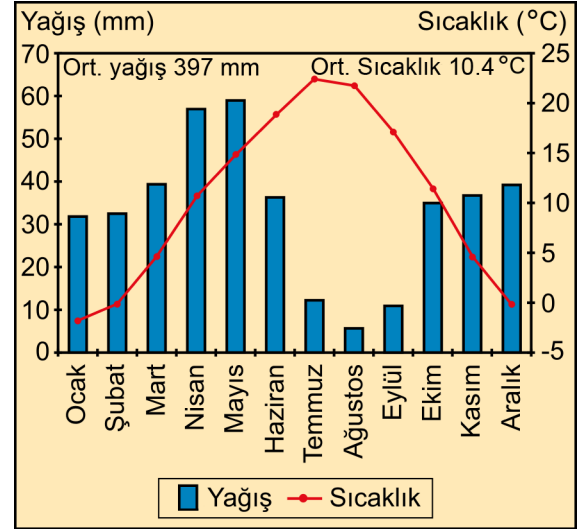


T.C. Ölçme, Seçme ve Yerleştirme Merkezi

YÜKSEKÖĞRETİM KURUMLARI SINAVI
TEMEL YETERLİLİK TESTİ (TYT)
COĞRAFYA TESTİ
30 HAZİRAN 2018 CUMARTESİ

Bu testlerin her hakkı saklıdır. Hangi amaçla olursa olsun, testlerin tamamının veya bir kısmının Merkezimizin yazılı izni olmadan kopya edilmesi, fotoğrafının çekilmesi, herhangi bir yolla çoğaltılması, yayımlanması ya da kullanılması yasaktır. Bu yasağa uymayanlar gerekli cezai sorumluluğu ve testlerin hazırlanmasındaki mali külfeti peşinen kabullenmiş sayılır.

8. Aşağıda, Türkiye'de bir il merkezine ait yıllık ortalama yağış ve sıcaklık grafiği verilmiştir.



Grafikteki bilgiler dikkate alındığında bu il merkezinin aşağıdakilerden hangisi olduğu söylenebilir?

- A) Kayseri B) Şanlıurfa C) Erzurum
D) Bursa E) Ardahan

6. Aşağıda, bir yörenin bazı doğal ve beşerî özellikleri verilmiştir.

- Günlük ve yıllık sıcaklık farkları fazladır.
- Kış mevsiminde karın yerde kalma süresi uzundur.
- Sıcaklık farklarının fazla olması yörenin enerji ihtiyacını artırmaktadır.
- Yaz sıcaklıklarına bağlı olarak tarımda sulamaya duyulan ihtiyaç fazladır.

Bu özellikler Coğrafya'nın aşağıdaki hangi alt dalı ile daha fazla ilgilidir?

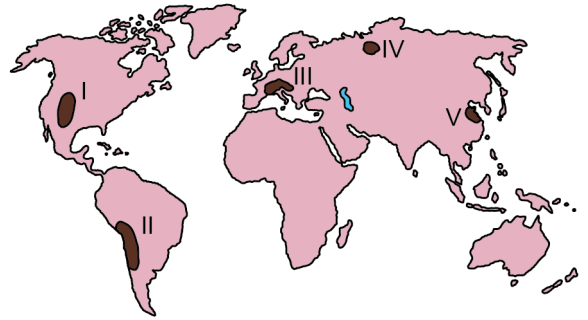
- A) Hidrografya B) Jeomorfoloji C) Klimatoloji
D) Biyocoğrafya E) Kartografya

7. I. Nüfusun ülke içinde dengeli dağılması
II. Beslenme sorunlarının yaşanması
III. İşsizlik sorunlarının artış göstermesi
IV. Yaşlı nüfus oranının artması

Yukarıdakilerden hangileri, bir ülkede hızlı nüfus artışı sonucu oluşabilecek durumlar arasında gösterilebilir?

- A) I ve II B) I ve III C) II ve III
D) II ve IV E) III ve IV

9. Aşağıdaki haritada bazı alanlar numaralandırılarak koyu renkle gösterilmiştir.



Bu alanlardan hangileri yüksek dağlık bölgeler arasında yer almaz?

- A) I ve II B) I ve III C) II ve IV
D) III ve V E) IV ve V

10. I. Sahra'nın güneyindeki ülkelerde 1984-1985 yıllarında görülen kuraklığa bağlı olarak 1 milyonun üzerinde insanın açlıktan hayatını kaybetmesi
- II. 2004 yılında depreme bağlı olarak gelişen ve Hint Okyanusu'nda etkili olan dev tsunaminin kıyı kesiminde 200 binden fazla insanın hayatını kaybetmesine neden olması
- III. Muson Asyası'nda 2004 yılının haziran ve temmuz aylarında meydana gelen aşırı yağışlar sonucu 300 kişinin yaşamını yitirmesi ve binlerce kişinin ise çeşitli şekillerde zarar görmesi
- IV. Şili'de 2010 yılının şubat ayında meydana gelen 8,8 büyüklüğündeki depremde 524 kişinin hayatını kaybetmesi ve binlerce kişinin evsiz kalması

Farklı zamanlarda meydana gelen yukarıdaki doğal afetlerden hangilerinin oluşumunda iklimin etkisi daha fazladır?

- A) I ve II B) I ve III C) II ve III
- D) II ve IV E) III ve IV

2018 TEMEL YETERLİLİK TESTİ (TYT)

YKS 1. OTURUM TEMEL YETERLİLİK TESTİ (TYT)

30-06-2018

COĞRAFYA TESTİ

6. C
7. C
8. A
9. E
10. B

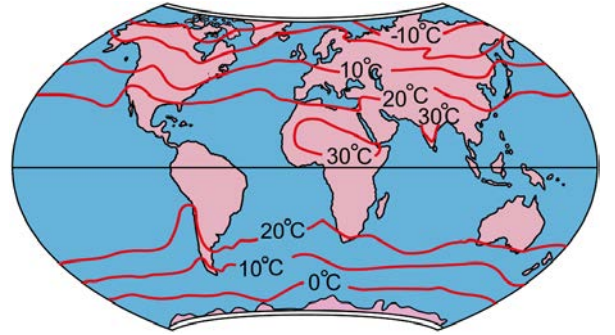


T.C. Ölçme, Seçme ve Yerleştirme Merkezi

YÜKSEKÖĞRETİM KURUMLARI SINAVI
YÜKSEK ÖĞRETİME GEÇİŞ (YGS)
COĞRAFYA TESTİ
12 MART 2017

Bu testlerin her hakkı saklıdır. Hangi amaçla olursa olsun, testlerin tamamının veya bir kısmının Merkezimizin yazılı izni olmadan kopya edilmesi, fotoğrafının çekilmesi, herhangi bir yolla çoğaltılması, yayımlanması ya da kullanılması yasaktır. Bu yasağa uymayanlar gerekli cezai sorumluluğu ve testlerin hazırlanmasındaki mali külfeti peşinen kabullenmiş sayılır.

16. Aşağıdaki haritada yeryüzüne ait yıllık ortalama sıcaklık dağılışı gösterilmiştir.



Buna göre; Güney Yarım Küre’de yer alan 20 °C izoterminin, Güney Amerika Kıtası’nın batısında Ekvatora doğru uzanmasının temel nedeni aşağıdakilerden hangisidir?

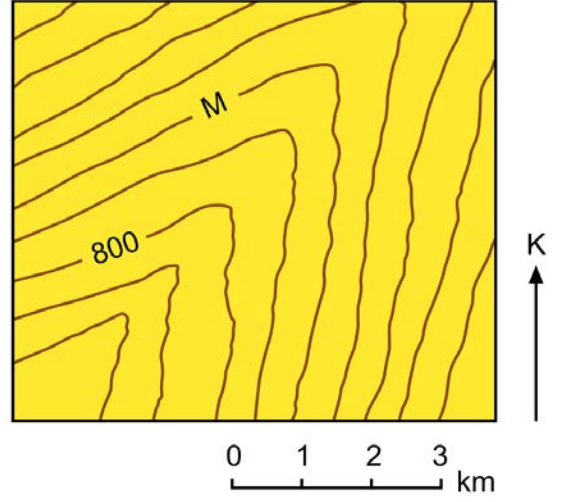
- A) Sıcaklıkların ocak ayında güneye doğru azalması
- B) Peru soğuk su akıntısının soğutucu etkisi
- C) Dinamik yüksek basınç alanının kuzeye yönelmesi
- D) Alize rüzgârlarının karşılaşma alanına yakın olması
- E) Güney Yarım Küre’de kutup rüzgârlarının temmuz ayında daha etkili olması

17. +8. saat dilimini kullanan Çin'in Şanghay kentinde bulunan bir grup turist 2017 yılına burada girmiştir. Ziyaret sonrasında grubun uçağı 01.01.2017 tarihinde saat 02.30'da kalkarak -8. saat dilimini kullanan ABD'nin San Francisco kentine 11 saatlik uçuşun ardından inmiştir.

Buna göre, uçağın indiğı anda San Francisco'da geçerli olan tarih ve saat aşağıdakilerin hangisinde doğru olarak verilmiştir?

- A) 01.01.2017, Saat 13.30
- B) 31.12.2016, Saat 10.30
- C) 01.01.2017, Saat 21.30
- D) 31.12.2016, Saat 13.30
- E) 31.12.2016, Saat 21.30

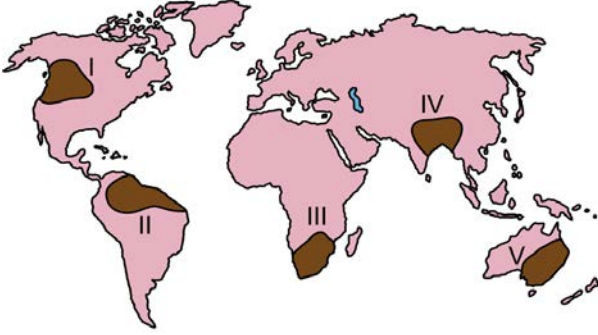
18. Aşağıdaki topoğrafya haritasında bir yer şekli gösterilmiştir.



Bu yer şeklinin bir vadi veya sırt olarak kabul edilmesi için M harfi ile gösterilen eş yükselti eğrisinin değeri, aşağıdakilerden hangisi olmalıdır?

	Vadi olarak kabul edilmesi için	Sırt olarak kabul edilmesi için
A)	1000	1100
B)	600	500
C)	1000	600
D)	900	1000
E)	500	1000

19. Aşağıdaki haritada bazı alanlar numaralandırılarak koyu renkle gösterilmiştir.



Bu alanların hangilerindeki kar ve buz erimeleri akarsuların beslenmesine daha fazla katkı sağlar?

- A) I ve II B) I ve IV C) II ve III
D) III ve V E) IV ve V

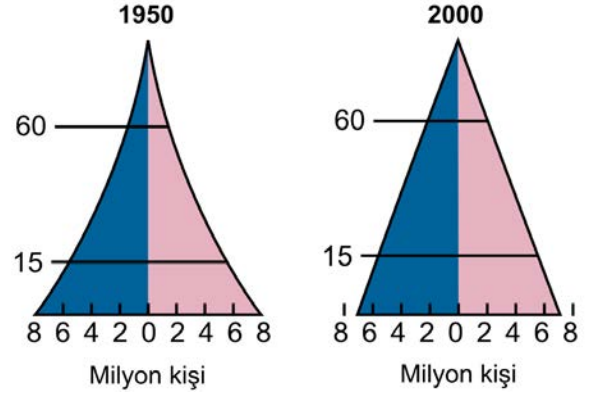
20.

- Bulduğunuz yerleşmede ne kadar insan yaşıyor?
- Çevrenizde hangi ürünler yetiştiriliyor?
- Isınma ihtiyacınızı hangi kaynaklardan karşılıyorsunuz?
- Çevrenizdeki binaların yapımında ne tür malzemeler kullanılıyor?

Yukarıdaki sorularla yoklanmak istenen bilgiler arasında, coğrafyanın hangi alt alanına ait inceleme konuları yoktur?

- A) Nüfus Coğrafyası B) Ulaşım Coğrafyası
C) Tarım Coğrafyası D) Enerji Coğrafyası
E) Yerleşme Coğrafyası

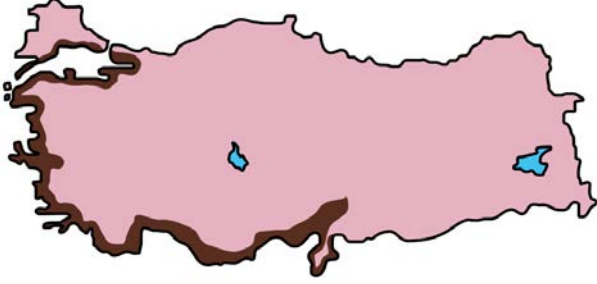
21. Aşağıda, bir ülkenin 1950 ve 2000 yıllarına ait nüfus pramitleri verilmiştir.



Bu ülkenin nüfus yapısında meydana gelen değişimle ilgili olarak aşağıdakilerden hangisi söylenemez?

- A) Nüfus artış hızı azalmıştır.
B) Yaşlı ölüm oranları azalmıştır.
C) Ortalama yaşam süresi artmıştır.
D) Doğum oranları azalmıştır.
E) Çocuk ölüm oranları artmıştır.

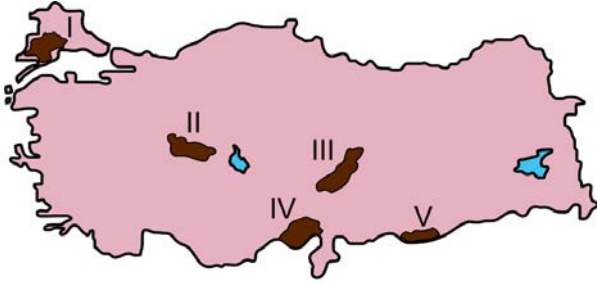
22. Aşağıdaki haritada maki bitki örtüsünün Türkiye'deki dağılışı koyu renkle gösterilmiştir.



Belirtilen alanların coğrafi özellikleri dikkate alındığında, bu bitki örtüsünün yetişme koşullarıyla ilgili olarak aşağıdakilerden hangisi kesinlikle doğrudur?

- A) Özellikle yaz aylarında bol yağış istemektedir.
 B) Don olaylarının görüldüğü yerlerde yetişmemektedir.
 C) Akdeniz iklim koşullarının etkili olduğu alanlarda yetişmektedir.
 D) Sadece terra-rossa topraklarda yetişmektedir.
 E) Yükseltinin 500 m'yi geçtiği yerlerde yetişmemektedir.

23. Aşağıdaki haritada bazı alanlar numaralandırılarak koyu renkle gösterilmiştir.



Bu alanların hangisinde engebelilik daha fazladır?

- A) I B) II C) III D) IV E) V

24. Aşağıdakilerden hangisi Türkiye nüfusunun 1927 yılından günümüze kadar geçirdiği değişimlerden biri değildir?

- A) Nüfus artışı genelde devam etmiştir.
 B) Kentsel nüfus oranı artmıştır.
 C) Nüfusun eğitim düzeyi yükselmiştir.
 D) Kırsal nüfus oranı artmıştır.
 E) Ortalama yaşam süresi uzamıştır.

25. Aşağıdaki haritada bazı alanlar koyu renkle gösterilmiştir.



Bu alanların tümü aşağıdaki hangi bölge sınıfı içerisinde yer alır?

- A) Çöl bölgesi
 B) Ekvatorial iklim bölgesi
 C) Petrol üretim bölgesi
 D) Platolar bölgesi
 E) Akdeniz iklimi bölgesi

26. Aşağıdakilerden hangisi, yer şekillerinin tarım faaliyetleri üzerindeki sınırlayıcı etkisine örnek gösterilebilir?

- A) Kurak ve yarı kurak bölgelerde sulama olanaklarının az olması
- B) Yıl boyunca yağış alan bölgelerde bazı tahılların üretiminin zor olması
- C) Az gelişmiş ülkelerde gübre kullanımının yetersiz olması
- D) Engembeli alanlarda tarla yerine bahçe tarımının tercih edilmesi
- E) Gelişmiş ülkelerde sanayi bitkileri üretiminin yaygın olması

27.

- I. Şiddetli fırtınalar
- II. Ay'ın çekim gücü
- III. Okyanus tabanı depremleri
- IV. Deniz altı volkanizması

Yukarıdakilerden hangileri tsunamilerin oluşumunda etkilidir?

- A) I ve II
- B) I ve III
- C) II ve III
- D) II ve IV
- E) III ve IV

2017 YÜKSEKÖĞRETİME GEÇİŞ SINAVI (2017-YGS)

2017-YGS

12-03-2017

COĞRAFYA TESTİ

- 16. B
- 17. E
- 18. C
- 19. B
- 20. B
- 21. E
- 22. C
- 23. C
- 24. D
- 25. A
- 26. D
- 27. E

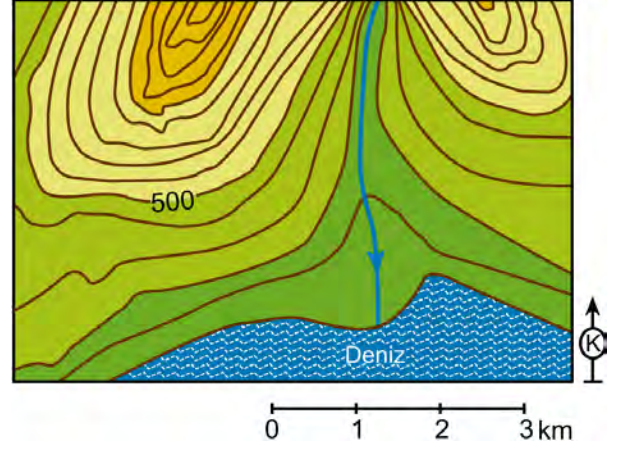


T.C. Ölçme, Seçme ve Yerleştirme Merkezi

YÜKSEKÖĞRETİM KURUMLARI SINAVI
YÜKSEK ÖĞRETİME GEÇİŞ (YGS)
COĞRAFYA TESTİ
13 MART 2016

Bu testlerin her hakkı saklıdır. Hangi amaçla olursa olsun, testlerin tamamının veya bir kısmının Merkezimizin yazılı izni olmadan kopya edilmesi, fotoğrafının çekilmesi, herhangi bir yolla çoğaltılması, yayımlanması ya da kullanılması yasaktır. Bu yasağa uymayanlar gerekli cezai sorumluluğu ve testlerin hazırlanmasındaki mali külfeti peşinen kabullenmiş sayılır.

16. Aşağıda bir alana ait topoğrafya haritası verilmiştir.



Bu haritada aşağıdaki yer şekillerinden hangisi gösterilmemiştir?

- A) Boyun B) Vadi C) Delta
D) Sırt E) Yamaç

17. Aynı paralel dairesi üzerindeki noktaların sıcaklıkları, buldukları yerin konumuna bağlı olarak, beklenen sıcaklık derecelerine uymayabilir. Bu tür sapmalara "anomali" denir.

Aşağıdakilerden hangisi, bu anomaliyi ortaya çıkaran etmenlerden biri değildir?

- A) Bakı B) Ekvatora yakınlık
C) Yükselti D) Okyanus akıntıları
E) Karasallık

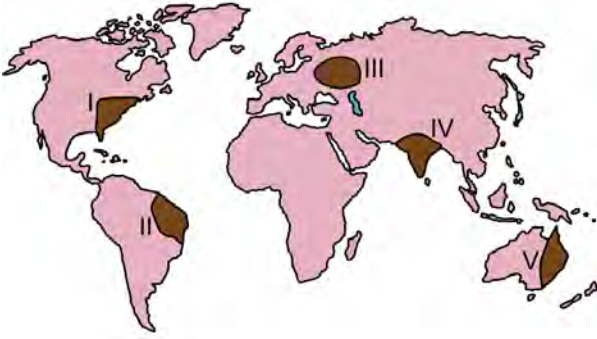
18. Aşağıda, bazı iç kuvvetler ve karşısında da yer şekilleri verilmiştir.

İç kuvvet	Yer şekli
I. Depremler	Çöküntü ovaları
II. Volkanizma	Ada oluşumları
III. Epirojenez	Kıyı taraçaları

Numaralandırılan bu iç kuvvetlerden hangileri, karşısındaki yer şeklinin oluşumunda **doğrudan** etkilidir?

- A) Yalnız I B) Yalnız III C) I ve II
D) II ve III E) I, II ve III

19.



Yukarıdaki haritada numaralandırılarak koyu renkle gösterilen alanların hangilerinde, toprak oluşumunu sağlayan kimyasal ayrışmanın daha hızlı gerçekleşmesi beklenir?

- A) I ve II B) I ve V C) II ve IV
D) II ve V E) III ve IV

20. Aşağıdaki haritada ilk medeniyetlerin kurulduğu yerler koyu renkli noktalarla gösterilmiştir.



İlk medeniyetlerin bu yerlerde kurulmasında ve gelişmesinde etkili olan öncelikli faktör aşağıdakilerden hangisidir?

- A) Hidrografik yapı B) Yükselti
C) Bitki örtüsü D) Bakı
E) İklim

21. I. Doğum oranı az ve çocuk nüfus oranı çok düşüktür.
II. Çalışan nüfus oranı fazla ve bağımlı nüfus oranı düşüktür.
III. Ortalama yaşam süresi kısa ve yaşlı nüfus oranı düşüktür.

Yukarıdakilerden hangileri, gelişmiş bir ülkenin nüfus özellikleri arasında yer alır?

- A) Yalnız I B) Yalnız II C) Yalnız III
D) I ve II E) II ve III

22. Bir bölgenin iklim özellikleri ile bu bölgedeki bitki örtüsü arasında yakın bir ilişki vardır. Karasal iklimin en büyük özelliği, yaz-kış ve gece-gündüz arasındaki sıcaklık farkının fazla olması, kışların çok soğuk geçmesi ve kar yağışının fazla olmasıdır.

Türkiye'de bu iklimin egemen olduğu alanlarda aşağıdaki bitkilerden hangisinin yetişmesi **beklenmez**?

- A) Karaçam B) Meşe C) Ardıç
D) Sığla E) Kavak

23. Türkiye’de birçok yerleşmenin kuruluş yeri ile adı arasında bir bağlantı bulunmaktadır. Örneğin, Uzunköprü, Vezirköprü, Taşköprü gibi akarsuların doğrudan doğruya köprüler vasıtasıyla geçilebildiği yerlerde kurulmuş yerleşmeler olduğu gibi, Yolüstü, Yolveren, Dörtöl gibi konaklama amacı ile kurulmuş yerleşmeler de bulunmaktadır.

Bu yerleşmelerin kuruluşu ve gelişiminde aşağıdaki faktörlerden hangisinin etkisi diğerlerine göre daha fazladır?

- A) Tarım B) Ulaşım C) Hayvancılık
D) Ticaret E) Su temini
24. Günümüz dünyasında bazı ülkeler askerî, ekonomik ve siyasal anlamda iş birliği yaparak bazı örgütlerin kurulmasını sağlamıştır. Bu örgütlerin amacı, üye ülkelerin çıkarlarını korumak veya ekonomik etkinliklerini artırmaktır.

Bu amaçlarla kurulmuş örgütler içerisinde yeni ülkelerin katılımı ile sınırları en değişken olan örgüt aşağıdakilerden hangisidir?

- A) Avrupa Birliği
B) Körfez İş Birliği Konseyi
C) Karadeniz Ekonomik İş Birliği Örgütü
D) Kuzey Amerika Serbest Ticaret Birliği
E) Petrol İhraç Eden Ülkeler Örgütü

25.



Yukarıdaki haritada numaralandırılarak koyu renkle gösterilen alanların hangilerinde demir yolu ağı diğerlerine göre daha seyrekdir?

- A) I ve II B) I ve IV C) II ve III
D) II ve IV E) III ve IV
26. Özellikle teknolojik gelişmenin yoğun olmadığı ve gelişmemiş olarak nitelendirilen bölgelerde doğal çevrenin insan yaşamı üzerindeki etkisi çok daha belirgindir.

Aşağıdakilerden hangisi, bu duruma örnek gösterilemez?

- A) Afrika'nın bazı bölgelerinde göçebe toplayıcılığın hâlâ yapılması
B) Sahra Afrikasında insanların ulaşım için deve kullanması
C) Moğolistan platolarında göçebe hayvancılığın yaygın olması
D) Sibiry'a'da insanların hayvanları kürk ve derisi için avlaması
E) Antarktika'da bazı istasyonlarda insanların yaşaması

27. I. Sel ve taşkınlar
II. Depremler
III. Çığlar
IV. Volkanik patlamalar

Yukarıdaki doğal afetlerden hangilerinin meydana gelmesinde, doğrudan veya dolaylı olarak insan etkisinden söz edilebilir?

- A) I ve II B) I ve III C) II ve III
D) II ve IV E) III ve IV

YÜKSEKÖĞRETİME GEÇİŞ SINAVI (YGS)

13 MART 2016

COĞRAFYA TESTİ

16.A

17.B

18.E

19.C

20.E

21.D

22.D

23.B

24.A

25.D

26.E

27.B

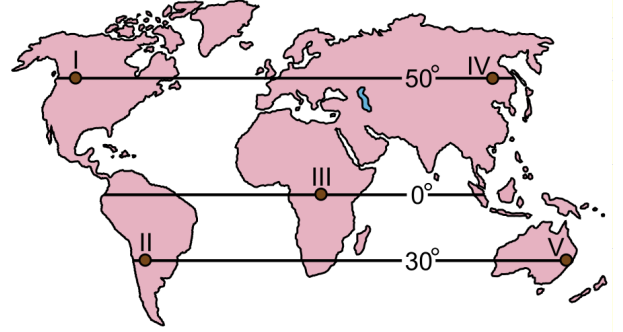


T.C. Ölçme, Seçme ve Yerleştirme Merkezi

YÜKSEKÖĞRETİM KURUMLARI SINAVI
YÜKSEK ÖĞRETİME GEÇİŞ (YGS)
COĞRAFYA TESTİ
15 MART 2015

Bu testlerin her hakkı saklıdır. Hangi amaçla olursa olsun, testlerin tamamının veya bir kısmının Merkezimizin yazılı izni olmadan kopya edilmesi, fotoğrafının çekilmesi, herhangi bir yolla çoğaltılması, yayımlanması ya da kullanılması yasaktır. Bu yasağa uymayanlar gerekli cezai sorumluluğu ve testlerin hazırlanmasındaki mali külfeti peşinen kabullenmiş sayılır.

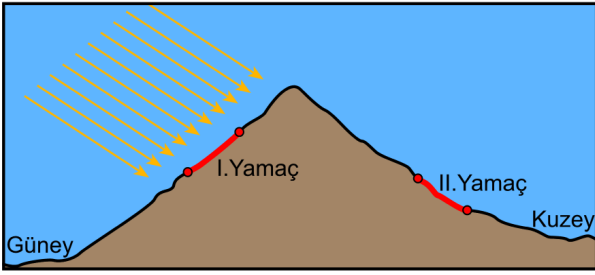
16. Aşağıdaki haritada, bazı şehir merkezleri numaralandırılarak buldukları paralellerle birlikte gösterilmiştir.



Bu şehirlerle ilgili aşağıdaki ifadelerden hangisi doğrudur?

- A) I. ve IV. şehirlerdeki çizgisel hız, II. ve V. şehirlerden daha fazladır.
- B) II. şehirde yılın bazı dönemlerinde gölge yönü kuzeye düşer.
- C) Gece ile gündüz süresi farkı en fazla III. şehirdedir.
- D) 1 Ekim'de öğle vakti gölge uzunluğu en az III. şehirdedir.
- E) V. şehirde yerel saat, her zaman diğerlerine göre daha geridir.

17. Aşağıdaki şekilde, Yengeç dönencesinin kuzeyindeki bir dağlık alanın güneyinde ve kuzeyinde bulunan iki yamaç numaralandırılarak kırmızı renkle gösterilmiştir.



Bu yamaçlarda, bakı faktörünün etkisiyle aşağıdakilerden hangisinin gerçekleşmesi beklenmez?

- A) I. yamaçta toprak neminin daha az olması
 B) II. yamaçta sıcaklık ortalamasının daha az olması
 C) I. yamaçta tarım üst sınırının daha düşük olması
 D) II. yamaçta güneş ışınlarının yere düşme açısının daha yatık olması
 E) I. yamaçta bitkilerin olgunlaşma süresinin daha kısa olması
18. Yer kabuğunun zayıf ve dirençsiz alanlarından yükselen magma, yer kabuğunun altında kayaları ve bunlara ait özel şekilleri oluşturur. Yer kabuğunun derinlerinde magmanın soğumasıyla oluşan bu şekiller zamanla üzerindeki yapının aşınmasıyla yeryüzünde görünür hâle gelir.

Aşağıdakilerden hangisi bu yolla oluşmuş bir yer şeklidir?

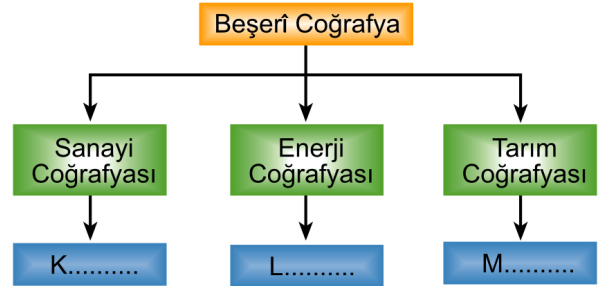
- A) Dayk
 B) Maar
 C) Krater
 D) Kaldera
 E) Volkan konisi

19. I. Akarsuların taşıdığı farklı boyuttaki malzemeye bağlı olarak toprağın geçirgen özelliğe olması
 II. Kıyı yörelerindeki yağış artışına bağlı olarak topraktaki organik madde miktarının daha fazla olması
 III. Eğimli alanlarda yamaçlar boyunca ufalanan malzemenin birikmesiyle taşlı toprakların oluşması

Yukarıdakilerden hangileri, toprak oluşumunda topoğrafyanın etkisini göstermektedir?

- A) Yalnız I
 B) Yalnız II
 C) Yalnız III
 D) I ve II
 E) II ve III

20. Aşağıda, beşerî coğrafyanın bazı dallarının gösterildiği bir şema verilmiştir.

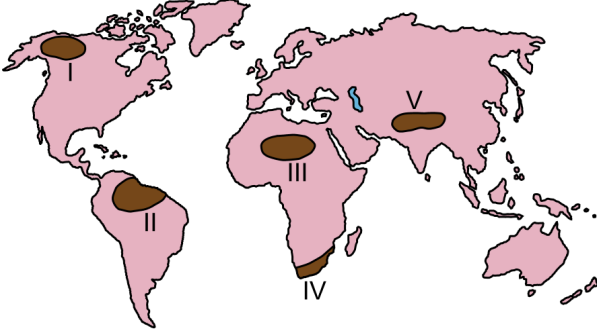


- I. Maden yataklarının ve üretimlerinin incelenmesi
 II. Bir ülkedeki kültür balıkçılığının araştırılması
 III. Bir ülkedeki otomotiv sektörünün incelenmesi

Buna göre, numaralandırılan etkinliklerin şemadaki yerleri aşağıdakilerin hangisinde doğru olarak verilmiştir?

- | | <u>K</u> | <u>L</u> | <u>M</u> |
|--------|----------|----------|----------|
| A) I | | II | III |
| B) I | | III | II |
| C) II | | I | III |
| D) II | | III | I |
| E) III | | I | II |

21. Aşağıda, haritada beş alan numaralarla gösterilmiş ve bu alanların dördüne ait nüfus özellikleri verilmiştir.



- Sıcaklık değerlerinin yüksek olması ve toprak veriminin düşüklüğü nüfusun seyrek olmasına neden olmuştur.
- Yağış ve sıcaklığın fazla olması gür bir bitki topluluğu oluşturmuştur. Bu durum nüfusu olumsuz etkiler.
- Dağlık, engebeli ve yüksek arazi şartları insan yaşamını zorlaştırdığı için nüfus yoğunluğu azdır.
- Yer altı ve yer üstü kaynaklarının bol olması nüfus yoğunluğu üzerinde olumlu bir katkı sağlamıştır.

Buna göre, haritada numaralarla gösterilen alanlardan hangisine ait nüfus özelliği verilmemiştir?

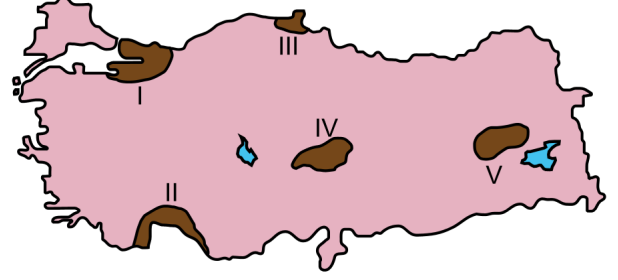
- A) I B) II C) III D) IV E) V

22. Türkiye’de Karadeniz ikliminin etkili olduğu kıyı kesimlerindeki bakı koşulları, yağış bakımından önemli farklılıkların ortaya çıkmasına neden olur. Örneğin, Doğu ve Batı Karadeniz kıyı kesiminde kuzeybatıya bakan yamaçlar daha fazla yağış alırken kuzeydoğuya bakan orta kesimler daha az yağış almaktadır.

Kıyı kesimlerinde bu durumun ortaya çıkmasında aşağıdakilerden hangisinin etkisi daha fazladır?

- A) Ortalama sıcaklığın
B) Basınç merkezlerinin
C) Dağların yükseltisinin
D) Hava kütlelerinin yönünün
E) Yamaç eğim değerlerinin

23. Aşağıda, haritada beş alan numaralarla gösterilmiş ve bu alanların dördüne ait göç özellikleri verilmiştir.



- Sanayi, ticaret ve ulaşım imkânlarının fazlalığı yoğun göç almasına neden olmaktadır.
- Tarım alanlarının dar ve limanın işlek olmaması nüfusun dışarıya göçüne neden olmaktadır.
- İklim koşullarının olumsuz, arazinin engebeli ve dağlık olmasına bağlı olarak dışarıya göç yaşanmaktadır.
- Tarımsal üretimle birlikte son yıllarda sanayi ve ticaretin gelişmesi buraya olan göçü arttırmıştır.

Buna göre, haritada numaralarla gösterilen alanlardan hangisine ait göç özelliği verilmemiştir?

- A) I B) II C) III D) IV E) V

24. Siyasi özelliklere bağlı olarak oluşturulan bölge sınırları zamanla değişebilir. Örneğin, eskiden güçlü olan bir ülkenin siyasi sınırları, ülkenin zamanla zayıflayıp bölünmesiyle değişebilmektedir.

Bu durum, aşağıdaki bölgelerin hangisinde günümüze yakın bir dönemde görülmüştür?

- A) Kafkaslar B) Kuzey Afrika
C) İskandinavya D) Orta Amerika
E) Güneydoğu Asya

25. Deniz yolu taşımacılığında kanallar oldukça önemli bir yere sahiptir. Kara içlerine yapılan kanallar sayesinde daha önceleri çok uzun mesafeler kateden gemilerin yolları kısalmış, zaman ve yakıt giderlerinden büyük oranda tasarruf sağlanmış. Aynı zamanda bu kanallar inşa edildikleri ülkeler için önemli bir gelir kaynağı da olmuştur.

Buna göre, aşağıdaki ülkelerden hangisi böyle bir gelire sahip değildir?

- A) Mısır B) Panama C) Yunanistan
D) Almanya E) İran

26. İnsanların ihtiyaç ve isteklerini karşılayabilmek için teknolojinin de yardımıyla dünyadaki yaşam alanları gittikçe genişlemektedir. Eskiden genellikle doğal çevre koşullarının elverişli olduğu alanlarda yaşamını sürdüren insan, günümüzde yaşam koşullarının oldukça zor olduğu kutuplara yakın alanlarda bile yaşamaya başlamıştır.

Bu durumun ortaya çıkmasındaki en önemli ihtiyaç aşağıdakilerden hangisidir?

- A) Barınma B) Savunma C) Su temini
D) Beslenme E) Ham madde

27. I. Çin'de bir baraj kapağının açılması sonucu akarsuyun taşkın yatağındaki tarım alanlarının sular altında kalması
II. Rusya'nın kuzeyindeki bazı şehirlerde aniden bastıran kış şartlarında birçok insanın donarak hayatını kaybetmesi
III. Haiti'de meydana gelen depremde binlerce evin depremden etkilenmesi ve birçok kişinin evsiz kalması

Dünyanın değişik bölgelerinde gerçekleşen yukarıdaki olaylardan hangileri, doğal afet kapsamına girmektedir?

- A) Yalnız I B) Yalnız II C) Yalnız III
D) I ve II E) II ve III

YÜKSEKÖĞRETİME GEÇİŞ SINAVI (YGS)
15.03.2015

COĞRAFYA TESTİ

- | | |
|-----|---|
| 16. | D |
| 17. | C |
| 18. | A |
| 19. | C |
| 20. | E |
| 21. | A |
| 22. | D |
| 23. | B |
| 24. | A |
| 25. | E |
| 26. | E |
| 27. | E |



T.C. Ölçme, Seçme ve Yerleştirme Merkezi

YÜKSEKÖĞRETİM KURUMLARI SINAVI
YÜKSEK ÖĞRETİME GEÇİŞ (YGS)
COĞRAFYA TESTİ
23 MART 2014

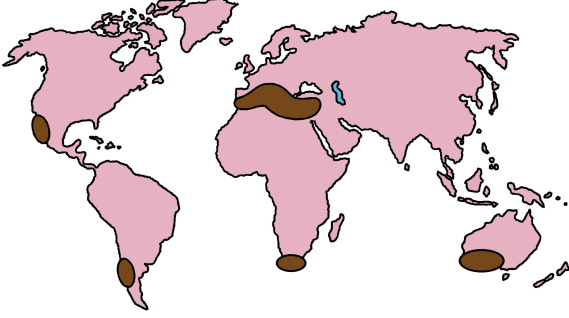
Bu testlerin her hakkı saklıdır. Hangi amaçla olursa olsun, testlerin tamamının veya bir kısmının Merkezimizin yazılı izni olmadan kopya edilmesi, fotoğrafının çekilmesi, herhangi bir yolla çoğaltılması, yayımlanması ya da kullanılması yasaktır. Bu yasağa uymayanlar gerekli cezai sorumluluğu ve testlerin hazırlanmasındaki mali külfeti peşinen kabullenmiş sayılır.

16. İnsanlar, binlerce yıldır doğa ile uyum içerisinde yaşamaya devam etmiş ve bu süreçte doğanın özelliklerini keşfederek yaşamı kolaylaştırmaya çalışmıştır. Ancak zamanla insan-doğa etkileşiminde insan daha baskın bir duruma geçmiştir.

Buna göre aşağıdakilerden hangisi, parçada belirtilen duruma örnek gösterilemez?

- A) Sulak alanların kurutularak tarım yapılması ve üretim artışı
- B) Su kaynaklarına yakın alanların yerleşme yeri olarak seçilmesi
- C) Barajlar yapılarak sel ve taşkınlardan korunma, enerji üretimi
- D) Kutuplara yakın alanlardaki yer altı kaynaklarının çıkarılması ve işlenmesi
- E) Fay hatlarının bulunduğu alanlarda depreme dayanıklı yapıların inşa edilmesi

17. Aşağıdaki Dünya haritasında bazı alanlar koyu renkle gösterilmiştir.



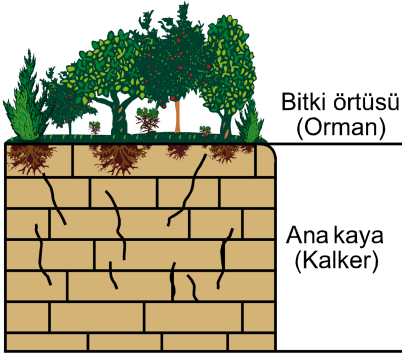
Buna göre belirtilen alanlarla ilgili olarak

- I. Yıllık sıcaklık ortalaması 15-20 °C'dir.
- II. Ortalama yıllık yağış miktarı 600-1000 mm'dir.
- III. Yıllık yağış, mevsimlere eşit oranda dağılır.
- IV. Yaz ve kış sıcaklıkları arasındaki fark azdır.

yargılarından hangileri söylenemez?

- A) I ve III B) I ve IV C) II ve III
D) II ve IV E) III ve IV

18. Aşağıdaki şekilde, nemli iklim bölgesindeki bir alanın bitki örtüsü ve ana kaya özelliği gösterilmiştir.



Buna göre, bu alanda aşağıdaki yer şekillerinden hangisinin oluşması beklenmez?

- A) Lapyalar B) Obruk C) Tafoniler
D) Mağaralar E) Kanyonlar

- 19.

- Yağışa bağlı yıkanma ve birikme süreci uzundur.
- Yaygın olarak kırmızı veya kırmızımsı renktedir.
- Bitki örtüsü gür fakat humus bakımından fakirdir.
- Sıcak ve nemli tropikal bölgelerde daha çok görülür.

Yukarıda bazı oluşum özellikleri verilen toprak tipi aşağıdakilerden hangisidir?

- A) Laterit
B) Terra-rossa
C) Podzol
D) Çernezyom
E) Vertisoller

20. Gıda üretimi ve üretim fazlasının toplanması, saklanması ve tekrar dağıtılması için gerçekleştirilen örgütlenme dünyadaki ilk şehirlerin doğuş nedeni olmuş; değişen koşullar şehirlerin kuruluş ve gelişmelerini de etkiler hâle gelmiştir.

Buna göre, günümüzde şehirlerin büyümesi ve yenilerinin kurulmasını sağlayan fonksiyonel değişimler arasında aşağıdakilerden hangisinin etkisi daha azdır?

- A) Sanayileşmenin artmasının
B) Pazar potansiyelinin artmasının
C) Büyüyen hizmet sektörünün
D) Tarımsal yapıdaki değişimin
E) Taşımacılıktaki gelişmelerin

21. Aşağıdaki tabloda, çalışan nüfusun ekonomik faaliyet kollarına göre üç ülkedeki dağılımı verilmiştir.

Ülkeler	Birincil ekonomik faaliyet	İkincil ekonomik faaliyet	Üçüncül ekonomik faaliyet
K	% 12	% 26	% 62
L	% 30	% 15	% 55
M	% 51	% 13	% 36

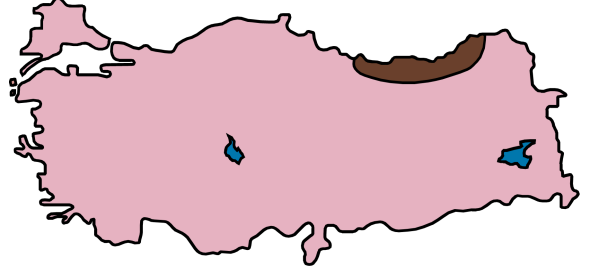
Yalnızca tablodaki bilgiler dikkate alındığında bu ülkelerle ilgili olarak aşağıdakilerden hangisine kesin olarak ulaşılabılır?

- A) Dış satım gelirleri, dış alım giderlerine göre fazladır.
- B) M ülkesinin birincil ekonomik faaliyetten elde ettiği gelir, diğer ekonomik faaliyet kollarından daha fazladır.
- C) Dış satımlarında ham maddeler, dış alımların da ise sanayi ürünleri önemli yer tutar.
- D) Nüfus artış hızları, gelişme hızından düşüktür.
- E) Gelişmişlik düzeyleri birbirinden çok farklıdır.

22. Aşağıdakilerden hangisi, yağışın Türkiye'deki dağılımına etki eden bir faktör **değildir**?

- A) Üç tarafının denizlerle çevrili olması
- B) Kuzey kesimlerinde akarsu ağının daha sık olması
- C) Ortalama yükseltinin batıdan doğuya doğru artması
- D) Kuzey ve güneyde kıyıya paralel uzanan dağların bulunması
- E) Genel itibarıyla yüksek ve engebeli bir görünüme sahip olması

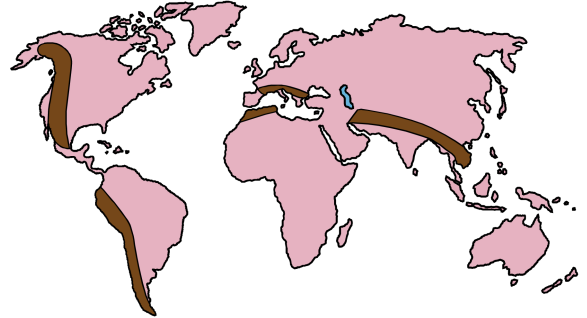
23.



İklim koşulları göz önüne alındığında, haritada koyu renkle gösterilen yer aşağıdaki bitki türlerinden hangisinin hâkimiyet bölgesi olarak değerlendirilebilir?

- A) Maki – Kızılcım – Fıstık çamı
- B) Step – Sedir – Akçaağaç
- C) Ladin – Kayın – Gökmar
- D) Karaçam – Alpin çayır – Gökmar
- E) Kızılcım – Sedir – Maki

24. Aşağıdaki haritada farklı kıtalardaki bazı bölgeler koyu renkle gösterilmiştir.



Bu bölgeler oluşturulurken aşağıdaki ölçütlerden hangisi dikkate alınmıştır?

- A) Tarım
- B) Dağlar
- C) Volkanizma
- D) Bitki örtüsü
- E) Yer altı kaynakları

25.



Yukarıdaki haritada numaralarla gösterilen yerlerden hangisindeki su yolu, insan eliyle açılmıştır?

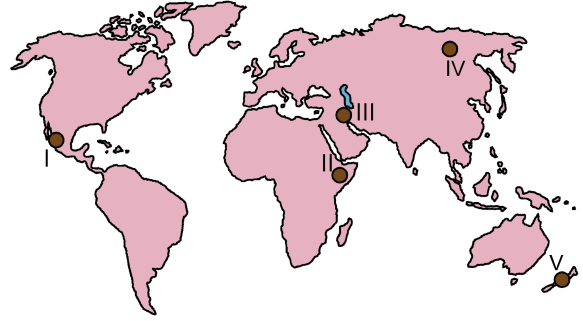
- A) I B) II C) III D) IV E) V

26. Doğal çevre koşullarının elverişli olduğu alanlar, insan tarafından yoğun olarak kullanılırken elverişsiz alanlarda insan faaliyetleri sınırlanmaktadır.

Buna göre, aşağıda verilen insan faaliyetlerinden hangisinin gelişimi doğal çevre koşullarına daha az bağımlıdır?

- A) Tarım B) Sanayi C) Ormancılık
D) Madencilik E) Ticaret

27. Her yıl büyük can ve mal kayıplarına sebep olan deprem ve volkanik patlamalar yeryüzünde geniş alanlarda etkili olmaktadır.



Buna göre yukarıdaki haritada gösterilen alanların hangisinde, bu doğal afetlerin etkisi en azdır?

- A) I B) II C) III D) IV E) V

**2014-YGS
CEVAP ANAHTARI**

COĞRAFYA TESTİ

16. B
17. E
18. C
19. A
20. D
21. E
22. B
23. C
24. B
25. A
26. E
27. D



T.C. Ölçme, Seçme ve Yerleştirme Merkezi

YÜKSEKÖĞRETİM KURUMLARI SINAVI
YÜKSEK ÖĞRETİME GEÇİŞ (YGS)
COĞRAFYA TESTİ
24 MART 2013

Bu testlerin her hakkı saklıdır. Hangi amaçla olursa olsun, testlerin tamamının veya bir kısmının Merkezimizin yazılı izni olmadan kopya edilmesi, fotoğrafının çekilmesi, herhangi bir yolla çoğaltılması, yayımlanması ya da kullanılması yasaktır. Bu yasağa uymayanlar gerekli cezai sorumluluğu ve testlerin hazırlanmasındaki mali külfeti peşinen kabullenmiş sayılır.

16. UNESCO'nun 2013 yılını "Pîri Reis'in Dünya Haritası'nı Anma Yılı" ilan etmesiyle bir grup öğrenci, bu haritanın sergilendiği Topkapı Sarayı Müzesi'ni ziyaret etmiştir. Haritayı inceleyen öğrencilerle müze yetkilisi arasında aşağıdaki konuşmalar geçmiştir.

Müze yetkilisi: "Çocuklar, harita 1513 yılında ceylan derisi üzerine çizilmiştir. Derinin bu 500 yıllık zamanda kurumasıyla haritanın boyutunda bir küçülme meydana gelmiştir. Eğer bu harita üzerinde uzunluk ölçmek isteseydik sizce hangi ölçek türü daha güvenilir olurdu?"

Burak: "Kesir ölçek en doğru sonucu verir."

Ayşe: "Böyle bir durumda çizgi ölçek en doğru sonucu verir."

Murat: "Çizgi ölçek de harita ile birlikte küçüleceğinden güvenilirmez. Bu nedenle kesir ölçek kullanmak en doğrusu olur."

Burhan: "Çizgi ölçek de harita ile birlikte orantılı küçüleceğinden bence çizgi ölçek daha güvenilir olur."

Verilen bilgiler dikkate alındığında öğrencilerden hangileri doğru yorum yapmıştır?

- A) Burak ve Murat
- B) Burak ve Ayşe
- C) Ayşe ve Murat
- D) Murat ve Burhan
- E) Ayşe ve Burhan

17.



Ticaret yolları, yelkenli gemiler döneminde geniş alanlı rüzgâr sistemlerine bağlı olarak gelişmişti. Yukarıdaki haritada gösterilen I numaralı ticaret yolunu takip ederek Amerika'ya ulaşan Avrupalı gemiciler, Avrupa'ya dönüşlerinde de II numaralı ticaret yolunu kullanıyorlardı.

Buna göre, haritada numaralandırılarak gösterilen ticaret yollarını oluşturan rüzgâr sistemleri aşağıdakilerden hangisinde doğru olarak verilmiştir?

- | I | II |
|---------------------|------------------|
| A) Kutup rüzgârları | Batı rüzgârları |
| B) Batı rüzgârları | Kutup rüzgârları |
| C) Alize rüzgârları | Batı rüzgârları |
| D) Batı rüzgârları | Alize rüzgârları |
| E) Alize rüzgârları | Kutup rüzgârları |

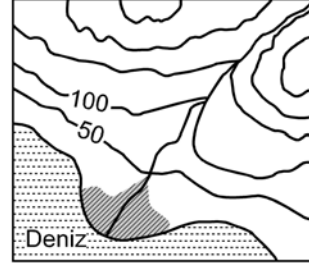
18.

- I. Magmatik kayalar
- II. Fosiller
- III. Deprem dalgaları
- IV. Tortul kayalar

Yukarıdakilerden hangileri, yerkürenin iç yapısı hakkında bilgi veren kanıtlar arasında sayılamaz?

- | | | |
|-------------|--------------|--------------|
| A) Yalnız I | B) I ve III | C) II ve III |
| D) II ve IV | E) III ve IV | |

19.



Yukarıdaki topoğrafya haritasında taralı alandaki alüvyal topraklarda horizonların oluşmamasının nedeni aşağıdakilerden hangisidir?

- A) Eğimin azaldığı yerlerde oluşması
- B) Mineral ve organik madde bakımından zengin olması
- C) Taban suyunun yüksek olması
- D) Kil içeriğinin yüksek olması
- E) Akarsuların getirdiği malzemelerle sürekli yenilenmiş olması

20. Coğrafya öğretmeni Şebnem Hanım, sınıfındaki öğrencileri gruplara ayırmış ve onlardan yaşadıkları yerin ekonomik, kültürel ve teknolojik imkânlarını araştırarak rapor hâline getirmelerini istemiştir. Buna göre;

Eriş grubu: Bölgelerinde ne tür hayvanların yetiştirildiğini ve kültür balıkçılığı ile uğraşan işletmeleri,

İz bırak grubu: Yaşadıkları alandaki *İnternet*, yazılı ve görsel medya hizmetleriyle bunların kullanılabilirlik durumlarını,

Tümertekin grubu: Bölgelerinde faaliyette bulunan iki termal tesisi ve bu tesislere kaynak olan sıcak suların çıktığı alanları

rapor hâline getirerek sınıfta sunmuşlardır.

Grupların çalışma konularına bakıldığında aşağıdakilerin hangisinde, beşeri coğrafyanın alt dalıyla ilişkilendirilecek bir rapor çalışması yapılmamıştır?

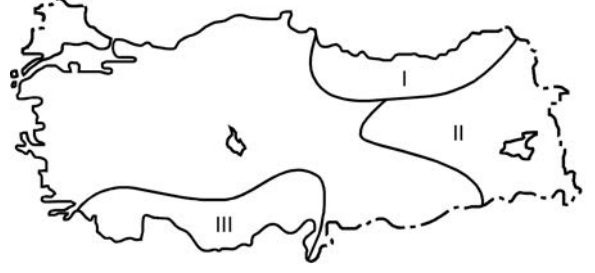
- A) Nüfus coğrafyası
B) Turizm coğrafyası
C) Tarım coğrafyası
D) Enerji coğrafyası
E) Ulaşım coğrafyası
21. Aşağıda, bir ülke nüfusu içerisindeki yaşlı nüfus oranının artışıyla ilgili olarak bazı yargılar verilmiştir.

- I. İnsan gücü bakımından ülke savunmasını zayıflatır.
II. Kamunun tasarruf oranını yükseltir.
III. Göçmen işçi ihtiyacını artırır.
IV. Sosyal güvenlik kurumlarının giderini artırır.

Buna göre, yukarıdaki yargılardan hangileri yanlıştır?

- A) Yalnız I B) Yalnız II C) I ve III
D) II ve IV E) III ve IV

22.



Yukarıdaki Türkiye haritasında numaralarla gösterilen alanlardaki akarsular denge profiline ulaşmamıştır.

Bu durum aşağıdaki özelliklerden hangisiyle çelişir?

- A) Akış hızlarının fazla olmasıyla
B) Enerji potansiyelinin yüksek olmasıyla
C) Derine aşındırmanın yüksek olmasıyla
D) Yük miktarının düşük olmasıyla
E) Vadilerinin genellikle "V" profilli olmasıyla
23. Gündüz ısınan karalar, gece ışıma yoluyla enerji kaybeder. Bu kayıp her yerde aynı oranda olmaz. Yükseltinin fazla olduğu alanlarda, havanın yoğunluğu ve su buharı daha az olduğu için alçak alanlara göre enerji kaybı daha çok olur.

Buna göre aşağıdaki il merkezlerinden hangisinde, geceleri enerji kaybı diğerlerine göre daha fazladır?

- A) Manisa B) Sivas C) Konya
D) Çorum E) Kırşehir

24.



Yukarıdaki harita üzerinde taranarak gösterilen alanlarda değişik ölçütlere göre coğrafi bölgeler belirlenmek istenmektedir.

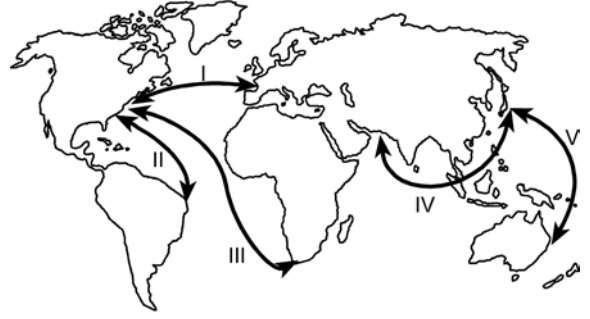
Buna göre oluşturulacak;

- I. ekvatorial iklim bölgesi,
- II. yağmur ormanları bölgesi,
- III. tsunami risk bölgesi,
- IV. aktif volkanlar bölgesi

sınıflamalarından hangilerinin, bütün alanlar için geçerli bir bölge sınıflaması olduğu söylenebilir?

- A) I ve II
- B) I ve III
- C) II ve III
- D) II ve IV
- E) III ve IV

25.



Deniz yolu ulaşımı ile dünyanın farklı yerleri arasında önemli ticari ilişkiler kurulmaktadır. Bölgeler arası etkileşimin fazla olduğu yerler arasında deniz yolu ulaşımı da oldukça gelişmiş durumdadır.

Buna göre yukarıdaki haritada gösterilen güzergâhlardan hangisi, en fazla gelişen deniz yolu güzergâhı durumundadır?

- A) I
- B) II
- C) III
- D) IV
- E) V

26. Herhangi bir alanın 1950'li ve 2000'li yıllara ait topoğrafya haritaları incelendiğinde doğal ortamda insan etkisi ile meydana gelen değişimler daha net görülebilir.

Bu değişime bağlı olarak topoğrafya haritalarında aşağıdakilerden hangisi gözlenemez?

- A) Göl sayısının farklılığı
- B) Ulaşım ağının değişmesi
- C) Taşkına uğrayan alanların değişmesi
- D) Kentsel alanlardaki farklılaşma
- E) Bitki örtüsündeki farklılaşma

27. Erozyona sebep olan faktör ve etkisini gösteren aşağıdaki örnek olay eşleşmelerinden hangisi yanlıştır?

<u>Sebepl olan faktör</u>	<u>Örnek olay</u>
A) Yer şekillerinin engebeli ve eğimli olması	Toprağın yamaç boyunca taşınması
B) Yanlış arazi kullanımı	Uygun olmayan alanların tarıma açılması
C) İklim elemanlarının etkisi	Sağanak yağışlarla toprağın taşınması
D) Doğal bitki örtüsünün tahribi	Meralarda aşırı hayvan otlatılması
E) Ana materyalin etkisi	Volkanik sahalarda daha az erozyon görülmesi



T.C. Ölçme, Seçme ve Yerleştirme Merkezi

**YÜKSEKÖĞRETİME GEÇİŞ SINAVI (YGS)
24 MART 2013**

COĞRAFYA TESTİ

- 16. E
- 17. C
- 18. D
- 19. E
- 20. A
- 21. B
- 22. D
- 23. B
- 24. A
- 25. A
- 26. C
- 27. E



T.C. Ölçme, Seçme ve Yerleştirme Merkezi

YÜKSEKÖĞRETİM KURUMLARI SINAVI
YÜKSEK ÖĞRETİME GEÇİŞ (YGS)
COĞRAFYA TESTİ
1 NİSAN 2012

Bu testlerin her hakkı saklıdır. Hangi amaçla olursa olsun, testlerin tamamının veya bir kısmının Merkezimizin yazılı izni olmadan kopya edilmesi, fotoğrafının çekilmesi, herhangi bir yolla çoğaltılması, yayımlanması ya da kullanılması yasaktır. Bu yasağa uymayanlar gerekli cezai sorumluluğu ve testlerin hazırlanmasındaki mali külfeti peşinen kabullenmiş sayılır.

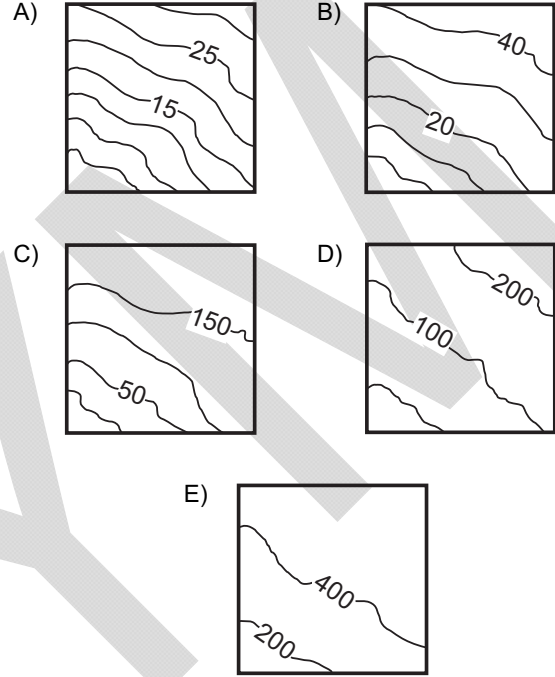
18. Doğal ve beşerî unsurlar birbirleriyle karşılıklı etkileşim içindedir.

Aşağıdaki durumlardan hangisinin beşerî faaliyetler üzerindeki olumsuz etkisi diğerlerinden daha fazladır?

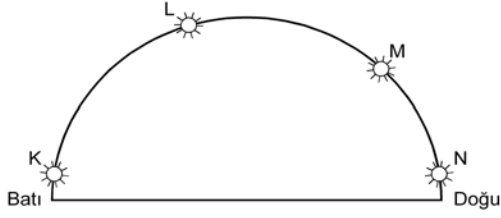
- A) İtalya'da Etna Yanardağı çevresinde toprakların geçirimli olması sonucu tarımsal ürün çeşitliliğinin azalmasının
- B) Şiddetli lodos nedeniyle Çanakkale Boğazı'nda deniz ulaşımının aksamasının
- C) İzlanda'da meydana gelen volkanik patlamalar sonucu kül ve toz bulutlarının hava trafiğini etkilemesinin
- D) Konya Havzası'nda obrukların oluşumu sonucu tarım alanlarının zarar görmesinin
- E) Antalya kıyılarında dalga aşındırması sonucu falezlerin gerilemesinin

19. Arazide yön ve hedef bulma sporlarında pusula ve büyük ölçekli haritalar sporcuların en önemli yardımcısıdır. Sporcular bu haritalar ile yer şekillerini belirleyerek en kısa zamanda yönlerini ve hedeflerini bulmaya çalışırlar.

Buna göre, Uludağ'da yapılacak bir yarışmada sporcuların yarışma alanına ait aşağıda birer parçası verilen haritalardan hangisini kullanması daha uygundur?



20.



Yukarıdaki şekilde 39° Kuzey Paraleli üzerinde yer alan K, L, M ve N merkezlerinde aynı günde ve aynı anda güneşin, gökyüzündeki konumu gösterilmiştir.

Buna göre,

- Diğerlerine göre en batıda yer alan merkez ----'dir.
I
- Diğerlerine göre K merkezinin başlangıç meridyenine göre konumu ---- .
II
- Diğerlerine göre güneşin en erken doğduğu merkez ----'dir.
III

cümlelerindeki boş bırakılan yerlere getirilmesi gerekenler aşağıdakilerden hangisinde doğru olarak verilmiştir?

	I	II	III
A)	K	en yakındır	N
B)	N	belirlenemez	K
C)	M	en uzaktır	L
D)	N	en yakındır	K
E)	L	belirlenemez	M

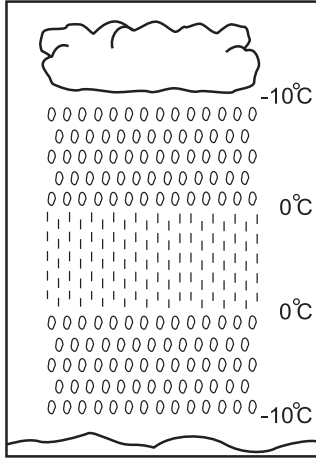
21. 171° Batı Meridyeni üzerinde bulunan Samoa Bağımsız Devleti'nin başkenti Apia, ülke meclisinin aldığı kararla;

- 149° Doğu Meridyeni üzerinde bulunan Avustralya'nın başkenti Canberra'nın 21 saat 20 dakika gerisindeyken 2 saat 40 dakika ilerisine geçmiştir.
- Yeni yıla en son giren başkent iken 2012'ye ilk giren başkent olmuştur.

Bu bilgilere göre, Samoa Bağımsız Devleti aşağıdaki kararlardan hangisiyle yukarıdaki her iki durumu aynı anda gerçekleştirmiştir?

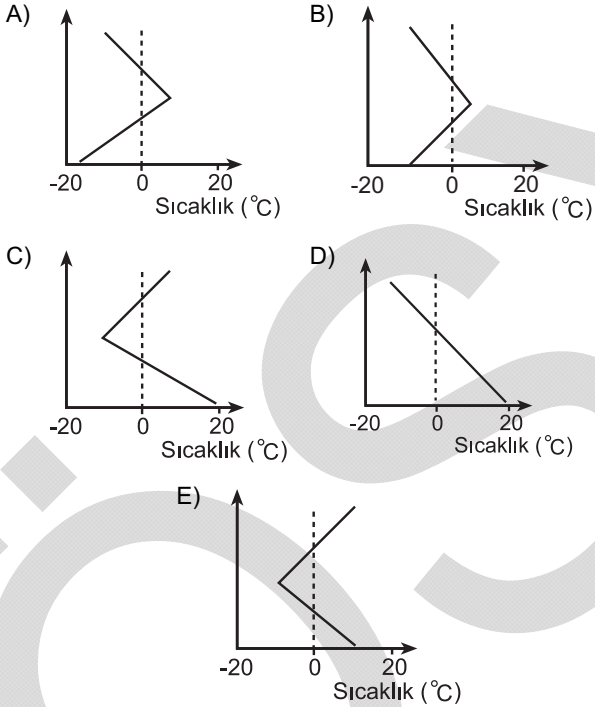
- A) Tarih değiştirme çizgisi olarak Greenwich'i kabul etme
- B) 31 Aralık tarihini Samoa için 21 saat 20 dakika olarak kabul etme
- C) Tarih değiştirme çizgisini ülkenin doğusuna kaydırma
- D) Ülkenin batısındaki başka bir kenti başkent olarak kabul etme
- E) 28 gün olan şubat aylarını 29 güne çıkarma

22.



Yukarıda verilen şekilde bir yerdeki yağışın oluşumundan yeryüzüne düşene kadar olan sıcaklık değişimi gösterilmiştir.

Buna göre, bulut ile yeryüzü arasındaki sıcaklık değişim grafiği aşağıdakilerden hangisidir?



23. İsviçre Alplerindeki kayak merkezleri ile kent merkezleri arasında balonla uçuş turları düzenleyen firmalar, rüzgârların esme yönlerinden yararlanarak yakıttan da tasarruf etmeye çalışmaktadır.

Dağ ve vadi meltemlerini kullanarak düzenlenen bu turların uçuş zamanı, rotası ve yararlandığı meltem çeşidi aşağıdakilerin hangisinde doğru olarak belirtilmiştir?

Uçuş zamanı	Uçuş rotası	Meltem çeşidi
A) Gündüz	Kent merkezinden kayak merkezine	Vadi meltemi
B) Gece	Kent merkezinden kayak merkezine	Vadi meltemi
C) Gündüz	Kayak merkezinden kent merkezine	Dağ meltemi
D) Gece	Kent merkezinden kayak merkezine	Dağ meltemi
E) Gündüz	Kayak merkezinden kent merkezine	Vadi meltemi

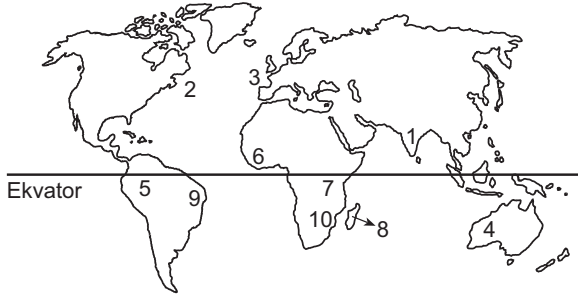
24.

Merkez	Sıcaklık (°C)	Maksimum nem (g/m ³)	Mutlak nem (g/m ³)
K	25	30	15
L	15	20	15
M	5	10	15
N	0	5	15
P	-5	1	15

Bu tabloya göre K, L, M, N ve P merkezleriyle ilgili aşağıdaki bilgilerden hangisi yanlıştır?

- A) K'nin bağıl nem oranı % 50'dir.
- B) L'de yağış oluşmamıştır.
- C) M'de yağış oluşmuştur.
- D) En fazla buharlaşma N'dedir.
- E) En fazla yoğuşma miktarı P'dedir.

25.



Yukarıdaki haritada numaralarla gösterilen yerler hakkında aşağıda yapılan yorumlardan hangisi, kıtaların bugünkü yerlerini almadan önce bir arada bulduklarının kanıtı olamaz?

- A) 2 ve 3 numaralı yerlerde kıyı çizgilerinin birbirine uyacak şekilde olması
- B) 6 ve 9 numaralı yerlerde magmatik kayaların aynı yaşta olması
- C) 8 ve 10 numaralı yerlerde fiziki koşulların benzer olması
- D) 1 ve 4 numaralı yerlerde fosillerin aynı yaşta ve benzer olması
- E) 5 ve 7 numaralı yerlerde yağmur ormanlarının olması
26. Bir akarsuyun yıllık akım miktarının, havzasına düşen yıllık yağış miktarına bölünmesiyle akarsuyun akış katsayısı elde edilir. Akış katsayısının 1 olması, akarsuyun havzasına düşen yağış tutarı kadar su taşıdığını gösterir.
- Buna göre, bir akarsuyun akış katsayısının 1'den büyük olması aşağıdakilerden hangisiyle açıklanabilir?**
- A) Yıllık buharlaşma miktarının çok fazla olmasıyla
- B) Akarsu havzasının çok geniş olmasıyla
- C) Akarsuyun eriyen buzul sularıyla da beslenmesiyle
- D) Akarsuyun yatak eğiminin fazla olmasıyla
- E) Havzasının kolları tarafından derince yarılmış olmasıyla

27. Nüfus ve yerleşmeyle ilgili olarak aşağıda verilen özelliklerden hangisinin ortaya çıkmasındaki temel etken doğru olarak verilmiştir?

Özellik	Temel etken
A) Kuzey Yarım Küre'de orta enlemler, alçak ve yüksek enlemlere göre daha fazla nüfusa sahiptir.	İklim
B) Nil Nehri Havzası'nın ağza yakın kısımları, orta ve yukarı kısımlarına göre daha fazla nüfuslanmıştır.	Su kaynakları
C) Ekvator çevresinde yerleşme sınırı dünya geneline göre daha yüksektir.	Yer şekilleri
D) Antarktika'da bilimsel araştırma istasyonları dışında sürekli yerleşim alanları bulunmamaktadır.	Kara ve denizlerin dağılışı
E) Avrupa'nın güney kıyılarında Kıta'nın kuzeyine göre nüfus daha fazladır.	Bakı

28. Değişik ölçütler göz önüne alınarak çizilen bölgelerin sınırları bazı durumlarda birbiriyle örtüşürken bazı durumlarda farklılık gösterir.

Buna göre, aşağıda verilen bölgelerin hangisinde sınırların birbirine en fazla benzerlik göstermesi beklenir?

- A) Asya'da doğal gaz çıkartılan yerler – Asya'da doğal gazın yoğun olarak tüketildiği yerler
- B) Afrika'da yağmur ormanları – Afrika'da nüfusun yoğun olduğu yerler
- C) Kuzey Amerika'da göller yöresi – Kuzey Amerika'daki zengin petrol bölgeleri
- D) Akdeniz ikliminin etkili olduğu yerler – Akdeniz'e kıyısı olan ülkeler
- E) Güney Amerika'da Amazon Havzası – Güney Amerika'da yağmur ormanları

29. Bir yerdeki nüfusu oluşturan kişiler, yaşları büyükten küçüğe doğru sıralandığında, ortada kalan kişinin yaşına ortanca yaş denilmektedir. Nüfusun yarısı bu yaştan küçük, diğer yarısı da bu yaştan büyüktür.

Aşağıdaki tabloda, Türkiye'nin yaş gruplarına göre nüfus oranları ve ortanca yaş değerleri verilmiştir.

Yıllar	0-14 (%)	65+ (%)	Ortanca yaş
1990	35	4,28	22,21
2000	29,83	5,70	24,83
2011	25,27	7,35	29,22

Bu tablodaki bilgilere göre, Türkiye nüfusuyla ilgili aşağıdaki yorumlardan hangisi kesinlikle doğrudur?

- A) 0-14 yaş grubu nüfus oranının yıllara göre düşmesi, nüfus artış hızının yükselmesiyle ilgilidir.
- B) Genç nüfuslu olma özelliğinden, yaşlı nüfuslu olma özelliğine doğru gitmektedir.
- C) Ortanca yaşın yıllara göre yükselmesindeki en önemli etken, nüfus artış hızının yükselmesidir.
- D) 65 yaş üzeri nüfus oranının yıllara göre artması, yaşlılığa bağlı ölüm oranlarının artışıyla ilgilidir.
- E) 0-14 yaş grubu nüfus oranının yıllara göre düşmesi, geri kalmış ülkelerle benzerlik gösterir.
30. Dünyada etkili olan doğal afet türleri arasında; tropikal siklonlar, taşkınlar ve kuraklık önemli yer tutmaktadır.

Buna göre, belirtilen doğal afetler göz önüne alındığında aşağıdakilerden hangisi kesinlikle söylenemez?

- A) İnsanları sosyal ve psikolojik açıdan etkiledikleri
- B) Bir ülke veya bölge sınırları içinde farklı derecede etkili oldukları
- C) Tarım ve yerleşim alanlarına zarar verdikleri
- D) Aynı alanlarda etkili oldukları
- E) Önceden tahmin edilebilen meteorolojik afetlerden oldukları

31. Türkiye'de tarımsal üretim ve üretilen ürünlerin ekonomiye katkısı, tarım bölgelerine göre farklılıklar göstermektedir.

Buna göre, aşağıdakilerden hangisi bu farklılıkları ortaya çıkaran etmenlerden biri değildir?

- A) Yetiştirilen ürünlerin ekonomik değerlerinin farklı olması
- B) Ekili-dikili arazilerin verimliliğinin farklı olması
- C) Bölge iklimlerinin birbirinden farklı olması
- D) Tüketici nüfusun bölgelere göre farklılık göstermesi
- E) Yer şekillerinin bölgesel farklılıklar göstermesi

1 NİSAN 2012
YÜKSEKÖĞRETİME GEÇİŞ SINAVI (YGS)

COĞRAFYA TESTİ

- 18. C
- 19. A
- 20. B
- 21. C
- 22. B
- 23. A
- 24. D
- 25. E
- 26. C
- 27. A
- 28. E
- 29. B
- 30. D
- 31. D



T.C. Ölçme, Seçme ve Yerleştirme Merkezi

YÜKSEKÖĞRETİM KURUMLARI SINAVI
YÜKSEK ÖĞRETİME GEÇİŞ (YGS)
COĞRAFYA TESTİ
27 MART 2011

Bu testlerin her hakkı saklıdır. Hangi amaçla olursa olsun, testlerin tamamının veya bir kısmının Merkezimizin yazılı izni olmadan kopya edilmesi, fotoğrafının çekilmesi, herhangi bir yolla çoğaltılması, yayımlanması ya da kullanılması yasaktır. Bu yasağa uymayanlar gerekli cezai sorumluluğu ve testlerin hazırlanmasındaki mali külfeti peşinen kabullenmiş sayılır.

18. I. Ankara ile İstanbul arasındaki kuş uçuşu uzaklık
II. Tuz Gölü'nün alanı
III. Bolu il merkezinin coğrafi koordinatları
IV. Erciyes Dağı'nın yüksekliği

Türkiye'nin fiziki haritasında yukarıdakilerden hangilerinin belirlenmesi için ölçek gereklidir?

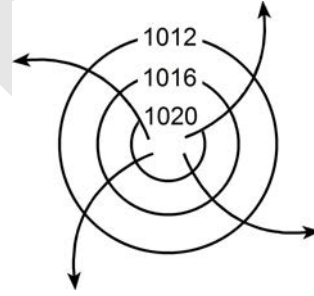
- A) I ve II B) I ve III C) II ve III
D) II ve IV E) III ve IV

19. Türkiye'de, enerji tasarrufu sağlamak amacıyla yaz ve kış saati uygulanmaktadır. Bu uygulama kapsamında yılın yaklaşık beş aylık döneminde 30° Doğu meridyeninin, diğer dönemde ise 45° Doğu meridyeninin yerel saati ulusal saat olarak kullanılmaktadır.

Buna göre, 45° Doğu meridyeninin yerel saatinin ulusal saat olarak kullanıldığı dönemde, Türkiye' de, aşağıdakilerden hangisi yaşanmaz?

- A) Gündüz-gece süresinin eşit olduğu gün
B) Güneş ışınlarının dike en yakın açıyla geldiği gün
C) En sıcak ay
D) Öğle vakti en uzun gölge boyu
E) En uzun gündüz

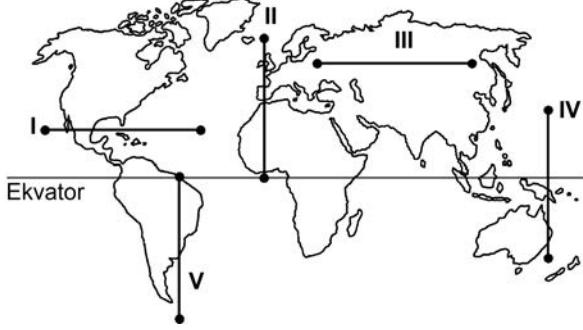
20. Kuzey Yarım Küre'deki bir yüksek basınç merkezine ait olan aşağıdaki şekilde bir hata yapılmıştır.



Aşağıdakilerden hangisi yapılırsa bu hata giderilmiş olur?

- A) Basınç değerini gösteren sayılar 1013 milibardan daha küçük olacak şekilde değiştirilirse
B) Basıncı gösteren sayıların değeri merkezden çevreye doğru büyüyerek yazılırsa
C) İzobar eğrilerinin sayısı artırılırsa
D) Rüzgârı gösteren oklar saat ibresinin dönüşü yönünde çizilirse
E) Rüzgârı gösteren oklar çevreden merkeze doğru çizilirse

21. Aşağıdaki haritada beş farklı doğrultu numaralarla gösterilmiştir.



Buna göre, kaç numaralı doğrultuda görülen iklim tipi çeşitliliği diğerlerinden **daha fazladır**?

- A) V B) II C) I D) III E) IV
22. Ecem ve Ada'nın aileleri yaşadıkları kente yakın bir tatil beldesine gittiler. Tatil dönüşü Ecem ve Ada bu yerde geçirdikleri ilk günü, "Sabahleyin erken hareket ettik. Yaz mevsimi olmasına karşın burada havalar yeni ısınmaya başlamıştı. Otele vardığımızda sis henüz dağılmamıştı. Bitkilerin üzerinde çiy damlacıkları vardı. Öğleye doğru hava ısındı ve sis dağıldı. Öğleden sonra gökyüzünde tek tük bulutlar görüldü. Akşama doğru kuvvetli bir rüzgâr ve peşinden siyah bulutlar belirdi. Şimşek ve gök gürültüsünden sonra yağmur damlacıklarının düşmesi gecikmedi. Otele girdiğimizde sağanak çoktan başlamıştı." sözleriyle anlattılar.

Buna göre, bu tatil beldesinin aşağıdakilerden hangisinde yer alması beklenir?

- A) Çukurova'da
B) Çandarlı Körfezi'nde
C) Bolu Dağları'nda
D) Gelibolu Yarımadası'nda
E) Datça Yarımadası'nda

23. Orografik yağışlar, denizden gelen nemli hava kütlelerinin kıyı çizgisine paralel uzanan dağ sıralarına çarparak yükselmesi sonucu meydana gelir.

Buna göre, aşağıdaki yerlerin hangisinde yıl içinde orografik yağışların **daha fazla** görülmesi beklenir?

- A) Ilgaz Dağları'nın güney yamaçlarında
B) Doğu Karadeniz Dağları'nın güney yamaçlarında
C) Aydın Dağları'nın kuzey yamaçlarında
D) Küre Dağları'nın kuzey yamaçlarında
E) Toros Dağları'nın kuzey yamaçlarında

24. Güney Amerika ve Afrika kıtalarında yapılan jeolojik araştırmalar, bu kıtalarda bulunan I. Jeolojik Zamanın Karbon ve Perm dönemlerine ait bitki ve hayvan fosillerinin birbirine benzer olduğunu ortaya çıkarmıştır.

Bu bilgi, Güney Amerika ve Afrika kıtalarıyla ilgili olarak aşağıdakilerden hangisini kanıtlar?

- A) Karbon ve Perm dönemlerinde, bu kıtalarda daha ılıman bir iklimin olduğunu
B) Bu kıtalardaki yer şekillerinin, Karbon ve Perm dönemlerindekiyle aynı olduğunu
C) Bu kıtaların, Karbon ve Perm dönemlerinde birleşik tek bir kıta halinde olduğunu
D) Bu kıtalarda, Karbon ve Perm dönemlerinde yaşayan canlılarla günümüzde yaşayan canlıların aynı olduğunu
E) Bu kıtaların, Karbon ve Perm dönemlerinde farklı yarım kürelerde bulunduğunu

25. Ege Denizi'nin güneyinde yer alan Santorini Adası'nı oluşturan volkanda, M.Ö. 1650-1600 yılları arasında meydana gelen Minoan Püskürmesi, adayı büyük bir değişikliğe uğratmıştır. Volkanik patlamada çıkan materyal kilometrelerce yüksekliğe kadar erişmiş ve patlama öncesinde tipik bir koni görünümünde olan volkan, üst kısmının çökmesi ve içinin deniz sularıyla dolması sonucu yarım ay şeklini almıştır.

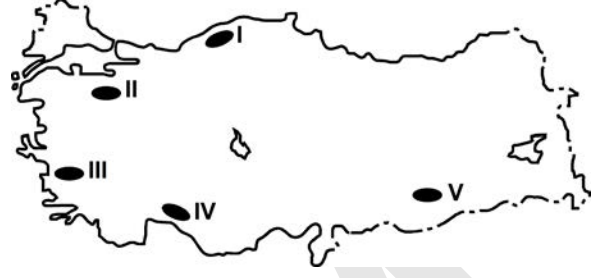
Yalnızca bu bilgiler göz önüne alındığında, Minoan Püskürmesi'yle ilgili aşağıdakilerden hangisi kesin olarak söylenebilir?

- A) Yaşanan en şiddetli volkanik patlama olduğu
 B) Bir kaldera oluşturduğu
 C) Çevrede yeni volkanlar oluşturduğu
 D) Adanın ortalama yükseltisini artırdığı
 E) Çok sayıda lav akıntısının oluştuğu
26. I. Anadolu aktif deprem kuşakları üzerinde yer alır.
 II. Anadolu'da volkanik alanlarla fay hatlarının çakıştığı bölgeler vardır.
 III. Anadolu'da çok sayıda göl vardır.
 IV. Anadolu'daki yeryüzü şekilleri çok engebelidir.

"Türkiye, sıcak su kaynakları bakımından zengindir." diyen bir araştırmacı, yukarıdakilerden hangilerine dayanarak bu yargıya ulaşmış olabilir?

- A) I ve II B) I ve III C) II ve III
 D) II ve IV E) III ve IV

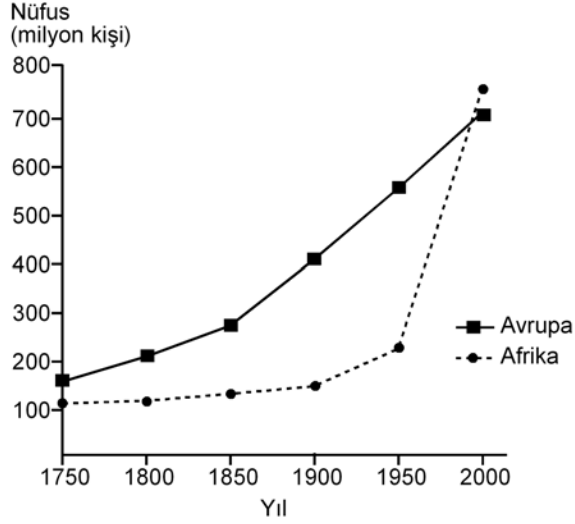
27.



Haritada numaralarla gösterilen yerlerdeki dağlarla ilgili olarak aşağıdakilerden hangisi yanlıştır?

- A) V. yerdeki dağ sönmüş volkan dağdır.
 B) II. yerdeki dağın doruklarında buzullar vardır.
 C) I. yerdeki dağların kuzey ve güney yamaçları bitki örtüsü bakımından farklıdır.
 D) III. yerdeki dağlar kırılmayla oluşmuştur.
 E) IV. yerdeki dağlarda karstik şekiller yaygındır.

28. Aşağıdaki grafikte, 1750-2000 yılları arasında Avrupa ve Afrika kıtalarının nüfusu gösterilmiştir.



Yalnızca bu grafikteki bilgilere dayanarak, aşağıdaki sonuçlardan hangisine ulaşılabılır?

- A) Avrupa'da nüfus en çok 1750-1800 yılları arasında artmıştır.
- B) 1850-1900 yılları arasında Afrika'daki doğum ve ölüm oranları birbirine eşittir.
- C) Verilen yılların tümünde, Avrupa'nın nüfusu Afrika'dan fazladır.
- D) 1750-1900 yılları arasında Afrika'dan kıta dışına yoğun göç olmuştur.
- E) Afrika'daki nüfus artış hızının en yüksek olduğu dönem 1950-2000'dir.
29. Aşağıdaki etkinliklerden hangisi, bir yerleşim yerinin nüfus artışında ve sosyo-kültürel yapısında diğerlerinden **daha az** değişime neden olur?
- A) Orman işletmesi açılması
- B) Üniversite kurulması
- C) Serbest ticaret bölgesi kurulması
- D) Demir-çelik fabrikası kurulması
- E) Turizm olanaklarının çeşitlenmesi

30. I. Siyasi bölgeler zamanla işlevini yitirebilir.
- II. Siyasi bölgeyi oluşturan ülkelerde dil, din ve ırk birliği vardır.
- III. Siyasi bölge sınırları içerisinde kalan ülkelerin yönetim biçimleri farklı olabilir.
- IV. Siyasi bölge sınırları yeni üye ülkelerin birliğe katılmasıyla genişler.
- V. Siyasi bölgelerin tümünde, birliğe üye ülkeler ortak para birimi kullanır.

Siyasi bölgelerle ilgili olarak yukarıdaki yargılardan hangileri doğrudur?

- A) II ve IV B) III ve V C) I, II ve V
- D) I ve III E) I, III ve IV

31. Aşağıdakilerden hangisi, insanın doğaya olan etkisine örnek **gösterilemez**?

- A) Kloroflorokarbon gazlarının artmasıyla ozon tabakasının seyrelmesi
- B) Denizlerdeki kirlenmeye bağlı olarak biyoçeşitliliğin giderek azalması
- C) Her yıl farklı sayıda tropikal siklonun meydana gelmesi
- D) Kişi başına düşen tatlı su miktarının giderek azalması
- E) Yağmur ormanlarının büyük bir hızla yok olması

YÜKSEKÖĞRETİME GEÇİŞ SINAVI (YGS)

27 MART 2011

COĞRAFYA TESTİ

- | | |
|-----|---|
| 18. | A |
| 19. | D |
| 20. | D |
| 21. | B |
| 22. | C |
| 23. | D |
| 24. | C |
| 25. | B |
| 26. | A |
| 27. | B |
| 28. | E |
| 29. | A |
| 30. | E |
| 31. | C |

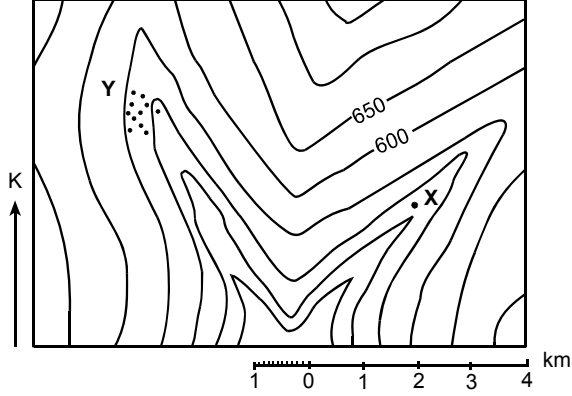


T.C. Ölçme, Seçme ve Yerleştirme Merkezi

YÜKSEKÖĞRETİM KURUMLARI SINAVI
YÜKSEK ÖĞRETİME GEÇİŞ (YGS)
COĞRAFYA TESTİ
11 NİSAN 2010

Bu testlerin her hakkı saklıdır. Hangi amaçla olursa olsun, testlerin tamamının veya bir kısmının Merkezimizin yazılı izni olmadan kopya edilmesi, fotoğrafının çekilmesi, herhangi bir yolla çoğaltılması, yayımlanması ya da kullanılması yasaktır. Bu yasağa uymayanlar gerekli cezai sorumluluğu ve testlerin hazırlanmasındaki mali külfeti peşinen kabullenmiş sayılır.

18. Aşağıdaki topoğrafya haritasında, X noktasıyla gösterilen yerde bulunan bir kişi, kurumuş akarsu yatağını izleyerek Y köyüne ulaşmak istemektedir.



Bu kişinin izlemesi gereken yön ve katetmesi gereken yaklaşık mesafe aşağıdakilerin hangisinde doğru sırada verilmiştir?

- A) Güneybatıya 3 km, kuzeydoğuya 5 km
 B) Kuzeydoğuya 5 km, güneye 8 km, kuzeybatıya 5 km
 C) Kuzeybatıya 5 km, güneydoğuya 5 km
 D) Güneybatıya 3 km, kuzeye 8 km, güneybatıya 5 km
 E) Güneybatıya 3 km, kuzeybatıya 5 km

19. Ekvatorun 4500 km kuzeyinde bulunan X noktasının yerel saati başlangıç meridyeninin yerel saatinden 120 dakika ileridir.

Yalnızca yukarıdaki bilgiler kullanılarak X noktasının,

- I. matematik konumu,
 II. ortalama yükseltisi,
 III. bulunduğu saat dilimi,
 IV. yıllık yağış tutarı

özelliklerinden hangilerine ulaşılabilir?

- A) I ve II B) I ve III C) II ve III
 D) II ve IV E) III ve IV

20. Aşağıdaki tabloda K ve L kentlerinde, belirtilen tarihlerdeki yaklaşık gündüz süreleri verilmiştir.

Kent	Gündüz süreleri (Saat)			
	23 Eylül	21 Aralık	21 Mart	21 Haziran
K	12	9	12	15
L	12	19	12	5

Buna göre, K ve L kentleri ile ilgili olarak aşağıdakilerden hangisi kesinlikle doğrudur?

- A) K kenti ekvatora daha yakındır.
 B) Dönenceler arasında yer almaktadırlar.
 C) Enlem dereceleri aynıdır.
 D) Buldukları yarım küre aynıdır.
 E) L kenti başlangıç meridyenine daha yakındır.

Diğer sayfaya geçiniz.

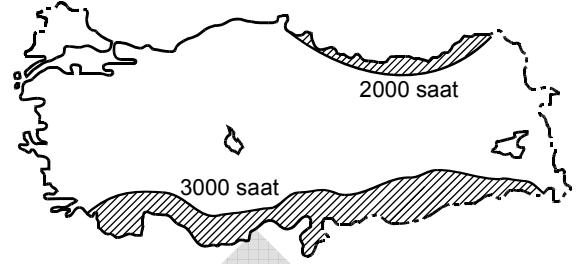
21. Aşağıda üç yerin yaşam koşulları verilmiştir:

- I. Bizim yaşadığımız yerde hava genelde gündüzleri çok sıcak, geceleri dondurucu soğuk olur. Çok ender olarak yağmur yağar. Tarım olanakları çok kısıtlı olduğu için göçebe hayvancılık en önemli geçim kaynağıdır.
- II. Bizim yaşadığımız yerde kurak mevsim olmadığından yetişme döneminde kuraklık isteyen bitkiler yerine muz, patates, şeker kamışı gibi ürünler yetiştirip civardaki pazarlarda satıyoruz. Hava yıl boyunca sıcak olduğundan kışlık giysiye ve yakacağa gereksinim duymuyoruz.
- III. Bizim en önemli geçim kaynağımız çeltik tarımıdır. Çok sulu toprakta daha yüksek verim alındığından pirinç ekimi için yağmurlu dönem olan yaz aylarını bekliyoruz. Ancak çok fazla yağış bazen hayatımızı olumsuz yönde etkiliyor.

Bu üç yerde etkili olan iklim tipleri aşağıdakilerin hangisinde doğru olarak verilmiştir?

	I	II	III
A) Tundra	Step	Akdeniz	
B) Çöl	Okyanusal	Akdeniz	
C) Tundra	Step	Muson	
D) Çöl	Ekvator	Muson	
E) Karasal	Ekvator	Okyanusal	

22. Aşağıdaki haritada, Türkiye'de yıllık ortalama güneşlenme süresinin 2000 saatten az ve 3000 saatten fazla olduğu yerler taramalarla gösterilmiştir.



Buna göre, bu yerlerdeki güneşlenme sürelerinin farklı olmasında,

- I. doğal bitki örtüsü,
- II. denize yakınlık,
- III. bulutluluk oranı

etkenlerinden hangileri etkilidir?

- A) Yalnız I B) Yalnız II C) Yalnız III
D) I ve II E) II ve III

23. Dış kuvvetler tarafından taşınan malzemelerin birikmesiyle oluşan ve horizonları olmayan topraklara aşağıdaki yerlerin hangisinde rastlanmaz?

- A) Birikinti konileri B) Kanyon yamaçları
C) Dağ etekleri D) Vadi tabanları
E) Delta ovaları

Diğer sayfaya geçiniz.

24. Bir grup coğrafyacı Doğu Anadolu Bölgesi'nde araştırma yapmış ve bölgenin özellikleriyle ilgili şu saptamalarda bulunmuşlardır:

- I. Rüzgâr erozyonu fazladır.
- II. Akarsu vadileri derindir.
- III. Bazı göllerin oluşumunda tektonizma etkilidir.
- IV. Termal kaynaklar yaygındır.
- V. Kısa mesafelerde sıcaklık farklılıkları görülür.

Bu özelliklerden hangileri bölgenin yüksek ve engebeli olmasıyla açıklanabilir?

- A) I ve II
- B) II ve III
- C) II ve V
- D) III ve IV
- E) IV ve V

25. **Toros Dağları'nın yüksek kesimlerinde denizel fosillerin olması, bu dağların oluşumunda aşağıdakilerden hangisinin etkili olduğunun göstergesidir?**

- A) Kıvrım hareketleri sonucunda denizel tabakaların yükselmesi ve bir kısmının su üzerinde kalması
- B) Akarsu ve buzul aşındırmaları sonucunda eski denizel tortulların yüzeye çıkması
- C) Karstlaşma sürecinde çökme ve çözünme olaylarının etkisiyle denizel tortulların ortaya çıkması
- D) Deniz seviyesindeki alçalmalar sonucunda deniz tabanının bir kısmının su üzerinde kalması
- E) Deniz seviyesinin yükseldiği dönemlerde karaların bir kısmının deniz altında kalması ve tortulanma ortamı oluşması

26. **Bir yerleşim merkezinin uzun yıllar önemini koruyabilmesi aşağıdakilerden hangisinin sonucudur?**

- A) Yüz ölçümünün geniş olmasının
- B) Coğrafi konumunun elverişli olmasının
- C) Sağlık ve eğitim kurumlarının yeterli olmasının
- D) Orman örtüsünün gür olmasının
- E) Nüfus yoğunluğunun az olmasının

27. Aşağıdaki tabloda, X ve Y ülkelerinde nüfusun bir yıl içerisindeki doğal artış ve gerçek artış oranları verilmiştir.

	X ülkesi (‰)	Y ülkesi (‰)
Doğal artış oranı	21	13
Gerçek artış oranı	12	33

Buna göre, X ve Y ülkeleri için aşağıdakilerden hangisi söylenebilir?

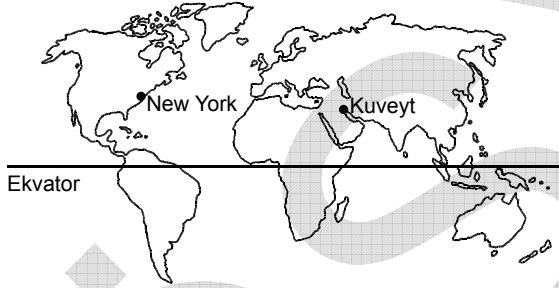
- A) X ülkesinin nüfusu, Y ülkesinden azdır.
- B) Y ülkesinin nüfus yoğunluğu, X ülkesinden fazladır.
- C) X ülkesinde bir yıldaki bebek ölümleri, Y ülkesinden fazladır.
- D) X ülkesinin nüfusu, Y ülkesinden daha hızlı artmıştır.
- E) Y ülkesi, X ülkesinden daha fazla dış göç almıştır.

Diğer sayfaya geçiniz.

28. Aşağıdakilerden hangisi, gelişmekte olan bir ülkede, kişi başına düşen ulusal gelirin belirgin bir şekilde artmasına neden olmaz?

- A) Önemli bir yer altı kaynağının işletmeye açılması
- B) Endüstride üretimin artırılması ve ürün kalitesinin yükseltilmesi
- C) Tarımda birim alandan daha fazla verim alınması
- D) Ortalama yaşam süresinin uzaması
- E) Yurt içi ve yurt dışı ulaşım olanaklarının gelişmesi

29. Aşağıdaki haritada Kuveyt ve New York kentleri gösterilmiştir.



Kuveyt'ten New York'a petrol taşıyacak bir tankerin, en kısa yolu izlemesi için sırasıyla hangi boğaz ve kanallardan geçmesi gerekir?

- A) Hürmüz Boğazı, Panama Kanalı, Macellan Boğazı
- B) Hürmüz Boğazı, Malakka Boğazı, Panama Kanalı
- C) Babülmendep Boğazı, Macellan Boğazı, Panama Kanalı
- D) Hürmüz Boğazı, Süveyş Kanalı, Babülmendep Boğazı, Cebelitarık Boğazı
- E) Hürmüz Boğazı, Babülmendep Boğazı, Süveyş Kanalı, Cebelitarık Boğazı

30. 1998 yılında Orta Amerika ülkelerinden Honduras'ı etkileyen şiddetli kasırga ve yağışların ardından, Devlet Başkanı Carlos Flores "Başımıza gelen en büyük felaket bu. Köprüler, yollar, elektrik hatları, su ve kanalizasyon şebekeleri yıkıldı. Elli yılda yavaş yavaş yapılanları, yetmiş iki saatte yitirdik." demiştir.

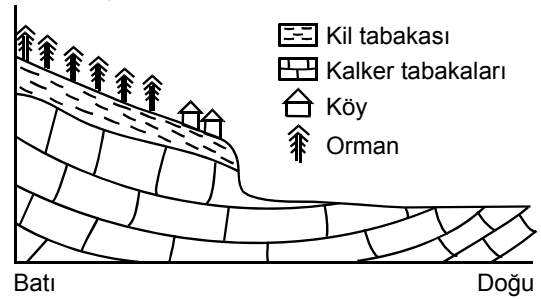
Carlos Flores bu sözleriyle kasırganın yol açtığı,

- I. toprak,
- II. ekonomi,
- III. altyapı,
- IV. nüfus

kayıplarından hangilerini vurgulamıştır?

- A) I ve II
- B) I ve III
- C) II ve III
- D) II ve IV
- E) III ve IV

31. Aşağıdaki şekilde, dağlık bir yörede kurulmuş köy ve buradaki jeolojik yapı gösterilmiştir.



Bu köyün, meydana gelebilecek bir heyelandan korunması için aşağıdaki önlemlerden hangisinin alınması gerekir?

- A) Köyü düzlük alanın doğusuna taşımak
- B) Köyü batıdaki ormanlık alan içine taşımak
- C) Köy alanını ağaçlandırmak
- D) Evlerin yapımında dayanıklı malzeme kullanmak
- E) Orman arazisinde taraçalendirme yapmak

Diğer sayfaya geçiniz.

YÜKSEKÖĞRETİME GEÇİŞ SINAVI (YGS)

11 NİSAN 2010

COĞRAFYA TESTİ

18. E
19. B
20. A
21. D
22. C
23. B
24. C
25. A
26. B
27. E
28. D
29. E
30. C
31. A